



図を使って  
考えよう 4

◎ いろいろなたし算とひき算

16

めざせ100点!

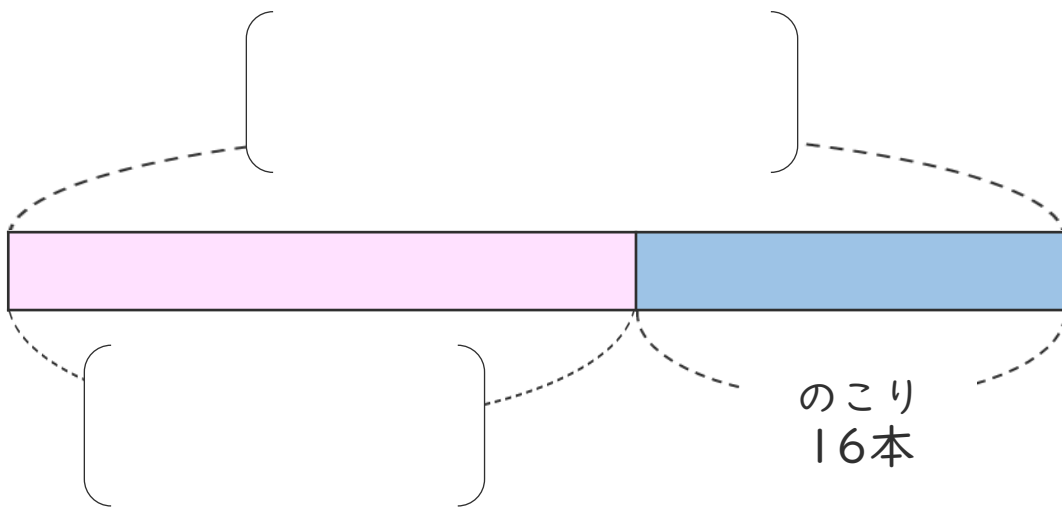


名まえ \_\_\_\_\_

・ ジュースが何本か あります。

24本くばったので、のこりが16本になりました。

① 下の図の [ ] にあうことばを書きましょう。(各25点)



② ジュースは、はじめに何本 ありましたか。

しきと 答えを書きましょう。(各25点)

しき [ ]

答え [ ]

<筆算スペース>






図を使って  
考えよう 4

いろいろなたし算とひき算

16

めざせ100点!

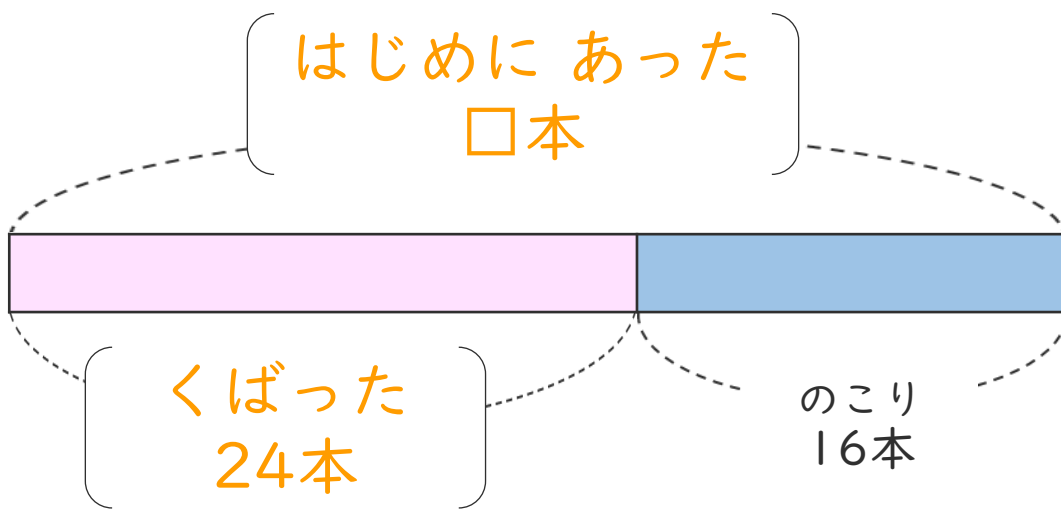


名まえ

・ ジュースが何本かあります。

24本くばったので、のこりが16本になりました。

① 下の図の〔 〕にあうことばを書きましょう。(各25点)



② ジュースは、はじめに何本ありましたか。

しきと答えを書きましょう。(各25点)

しき  $\left( 24 + 16 = 40 \right)$

答え  $\left( 40 \text{本} \right)$

<筆算スペース>

