



図を使って
考えよう 4

いろいろなたし算とひき算

16

めざせ100点!

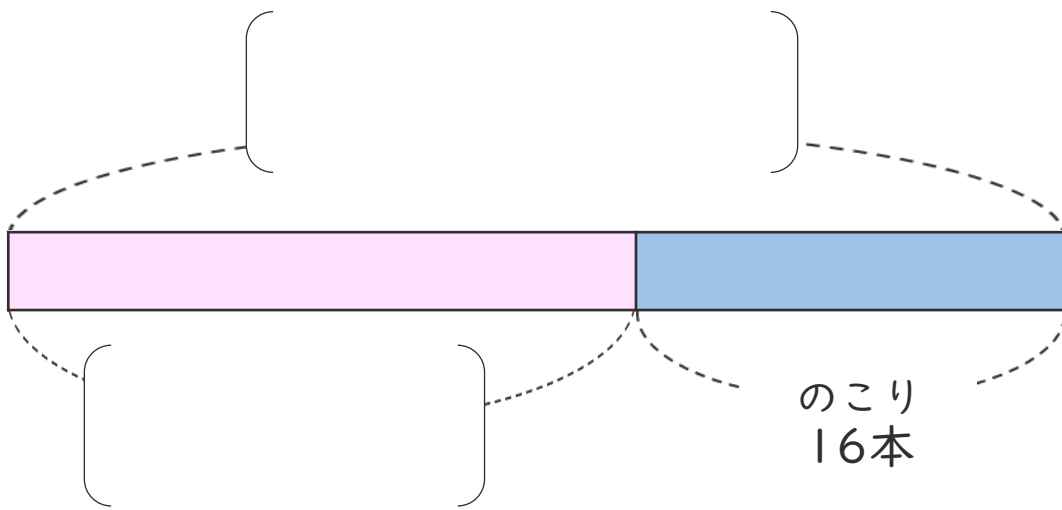


名まえ _____

・ ジュースが何本か あります。

24本くばったので、のこりが16本になりました。

① 下の図の [] にあうことばを書きましょう。(各25点)



② ジュースは、はじめに何本 ありましたか。

しきと 答えを書きましょう。(各25点)

しき []

答え []

<筆算スペース>






図を使って
考えよう 4

いろいろなたし算とひき算

16

めざせ100点!

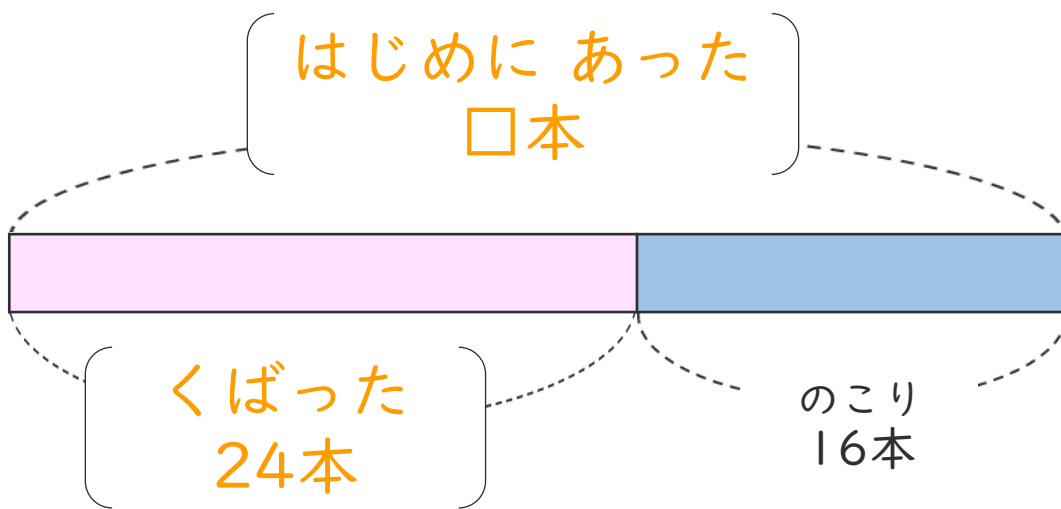


名まえ _____

・ ジュースが何本か あります。

24本くばったので、のこりが16本になりました。

① 下の図の [] にあうことばを書きましょう。(各25点)



② ジュースは、はじめに何本 ありましたか。

しきと 答えを書きましょう。(各25点)

しき $\left[24 + 16 = 40 \right]$

答え $\left[40 \text{本} \right]$

<筆算スペース>

