




図を使って
考えよう 2

● はじめにあった数は何こ？

16

めざせ100点!

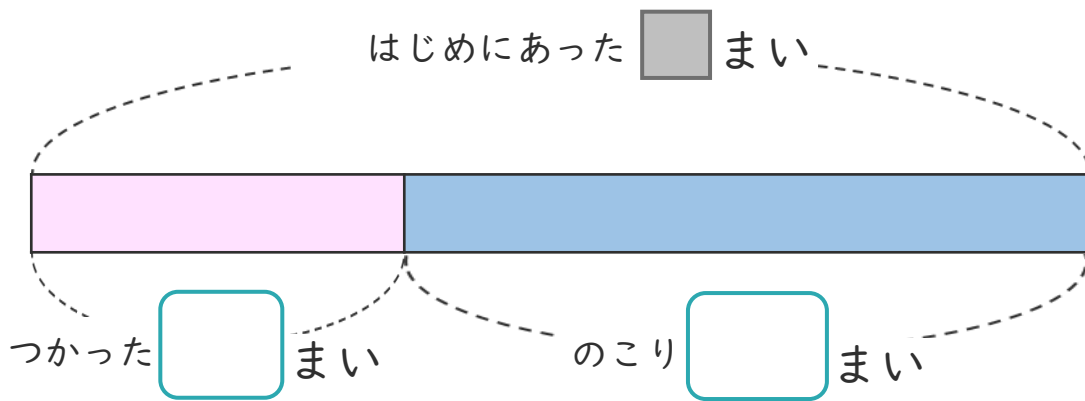


名まえ _____

・ 色紙を 何まいか もっていました。

そのうち 16まい つかったので、のこりが 26まい になりました。

① 下の図の □ にあう 数を書きましょう。(各25点)




② 色紙は、はじめに 何まい ありましたか。

しきと 答えを書きましょう。(各25点)

しき ()

答え ()

<筆算スペース>





図を使って
考えよう 2

16

● はじめにあった数は何こ？

めざせ100点!

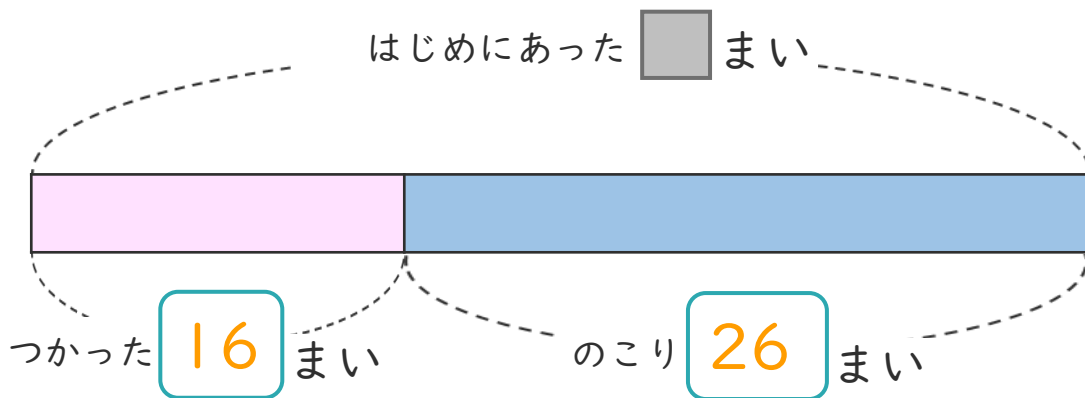


名まえ _____

・ 色紙を 何まいか もっていました。

そのうち 16まい つかったので、のこりが 26まい になりました。

① 下の図の □ にあう 数を書きましょう。(各25点)



② 色紙は、はじめに 何まい ありましたか。

しきと 答えを書きましょう。(各25点)

しき $\left(16 + 26 = 42 \right)$

答え $\left(42 \text{まい} \right)$

<筆算スペース>

