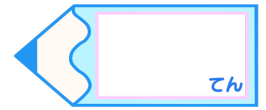


分数6

● もとの大きさはいくつ分？

16

目指せ75点!



名まえ


1 もとの長さの  $\frac{1}{3}$  をいくつあつめると、もとの長さになりますか。

(25点)

もとの長さの  $\frac{1}{3}$



もとの長さ




答え：

2 もとの長さの  $\frac{1}{8}$  をいくつあつめると、もとの長さになりますか。

(25点)

もとの長さの  $\frac{1}{8}$



もとの長さ

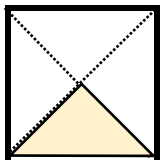


答え：

3 色をぬったぶぶんはもとの大きさの何分の一ですか。

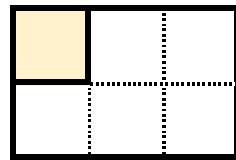
(各25点)

①




答え：

②



答え：

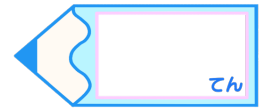


分数6

● もとの大きさはいくつ分？

16

目指せ75点!



名まえ

1 もとの長さの  $\frac{1}{3}$  をいくつあつめると、もとの長さになりますか。

(25点)

もとの長さの  $\frac{1}{3}$



もとの長さ

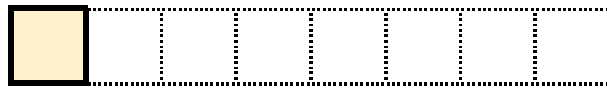


答え： 3つ

2 もとの長さの  $\frac{1}{8}$  をいくつあつめると、もとの長さになりますか。

(25点)

もとの長さの  $\frac{1}{8}$



もとの長さ

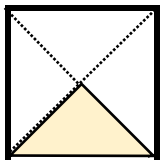


答え： 8つ

3 色をぬったぶぶんはもとの大きさの何分の一ですか。

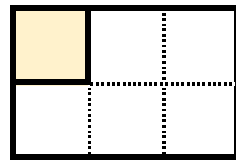
(各25点)

①



答え：  $\frac{1}{4}$

②



答え：  $\frac{1}{6}$