



# 長さのたんい 7

● ものさしではかる (mm)

16

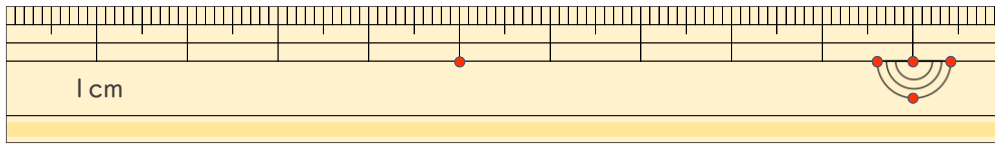
めざせ80点!



名まえ \_\_\_\_\_

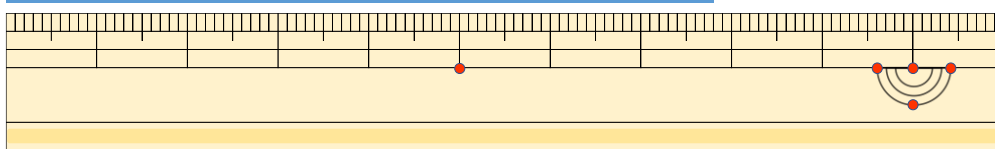
1 線の長さはどれだけですか。(各20点)

①



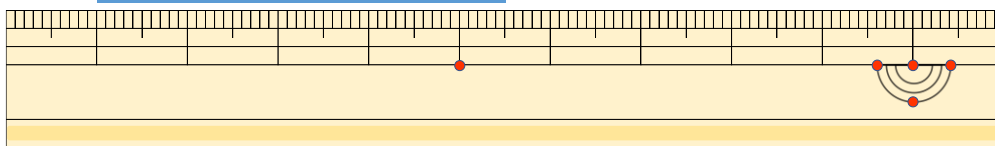
答え ( )

②



こた  
答え ( )

③



こた  
答え ( )

2 線の長さをものさしではかりましょう。(各20点)

①



こた  
答え ( )

②



こた  
答え ( )



# 長さのたんい 7

● ものさしではかる (mm)

16

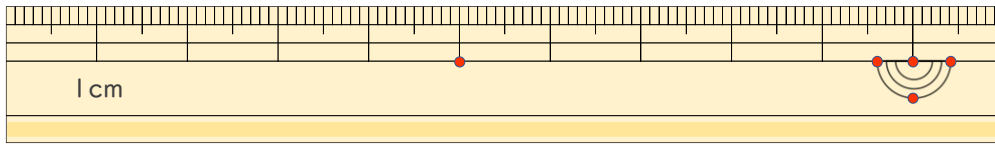
めざせ80点!



名まえ \_\_\_\_\_

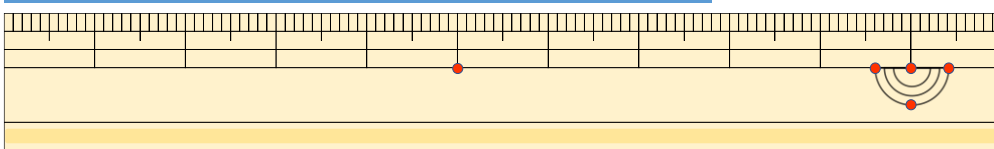
1 <sup>せん</sup>線の <sup>なが</sup>長さは <sup>かく</sup>どれだけですか。 (<sup>てん</sup>各20点)

①



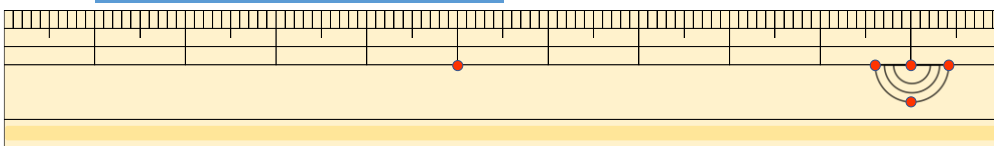
答え ( 4 cm 5 mm )

②



<sup>こた</sup>答え ( 7 cm 8 mm )

③



<sup>こた</sup>答え ( 4 cm 5 mm )

2 <sup>せん</sup>線の <sup>なが</sup>長さを <sup>かく</sup>ものさしで <sup>てん</sup>はかりましょう。 (各20点)

①



<sup>こた</sup>答え ( 6 cm )

②



<sup>こた</sup>答え ( 8 cm )

