



長さのたんい 7

● ものさしではかる (mm)

16

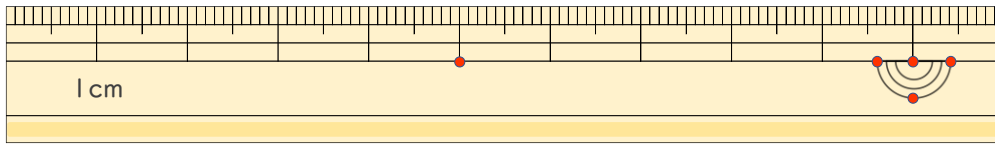
めざせ80点!



名まえ _____

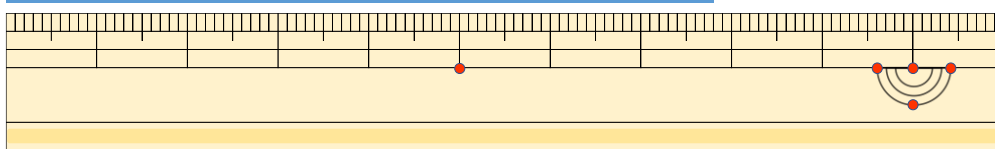
1 線の長さはどれだけですか。(各20点)

①



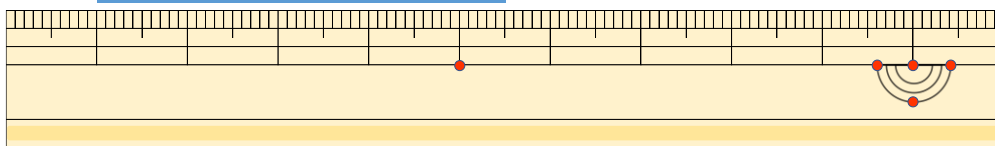
答え ()

②



答え ()

③



答え ()

2 線の長さをものさしではかりましょう。(各20点)

①



答え ()

②



答え ()



長さのたんい 7

● ものさしではかる (mm)

16

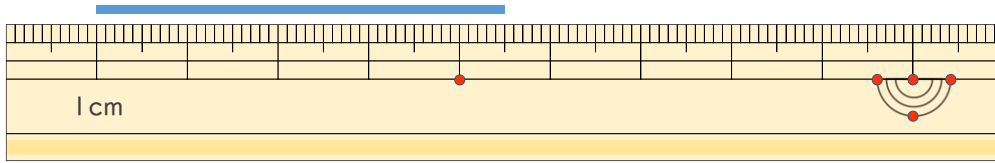
めざせ80点!



名まえ _____

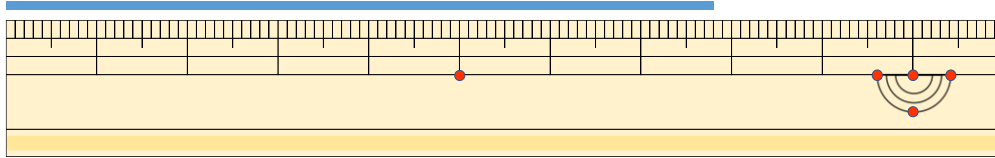
1 ^{せん}線の ^{なが}長さは ^{かく}どれだけですか。 (^{てん}各20点)

①



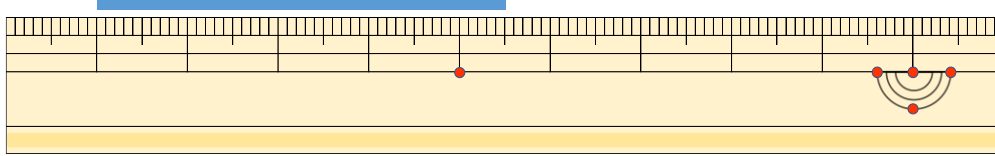
^{こた}答え (4 cm 5 mm)

②



^{こた}答え (7 cm 8 mm)

③



^{こた}答え (4 cm 5 mm)

2 ^{せん}線の ^{なが}長さを ^{かく}ものさしで ^{てん}はかりましょう。 (各20点)

①



^{こた}答え (6 cm)

②



^{こた}答え (8 cm)

