



長さのたんい 6

● 物のさしの見かた (mm)

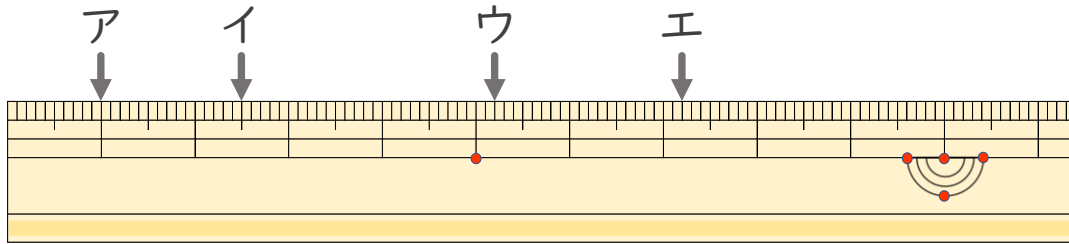
16

めざせ85点!



名まえ _____

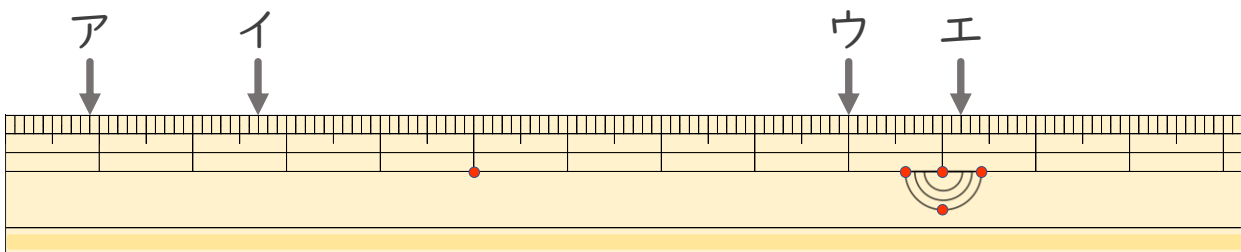
- 1 ^{ひだり}左はしから ア、イ、ウ、^{なが}までの長さはそれぞれどれだけで
すか。(各10点)



ア () イ ()

ウ () エ ()

- 2 ^{ひだり}左はしから ア、イ、ウ、エ^{なが}までの長さはそれぞれどれだけで
ですか。(各15点)



ア () イ ()

ウ () エ ()



長さのたんい 6

● ものさしの見かた (mm)

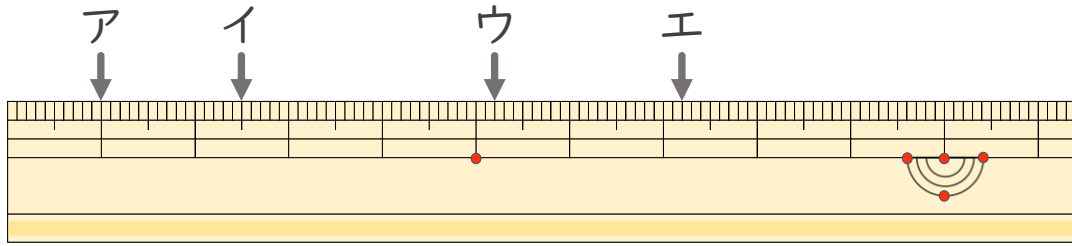
16

めざせ85点!



名まえ _____

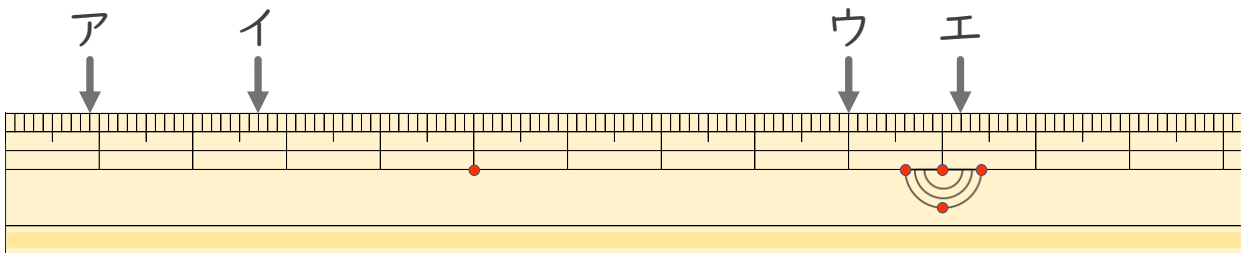
1 ^{ひだり}左はしから ア、イ、ウ、^{なが}までの長さはそれぞれどれだけで
すか。(各10点)



ア (1 cm) イ (2 cm 5 mm)

ウ (5 cm 2 mm) エ (7 cm 2 mm)

2 ^{ひだり}左はしから ア、イ、ウ、エ^{なが}までの長さはそれぞれどれだけで
ですか。(各15点)



ア (9 mm) イ (2 cm 7 mm)

ウ (9 cm) エ (10 cm 2 mm)

