



# 長さのたんい 6

● 物のさしの見かた (mm)

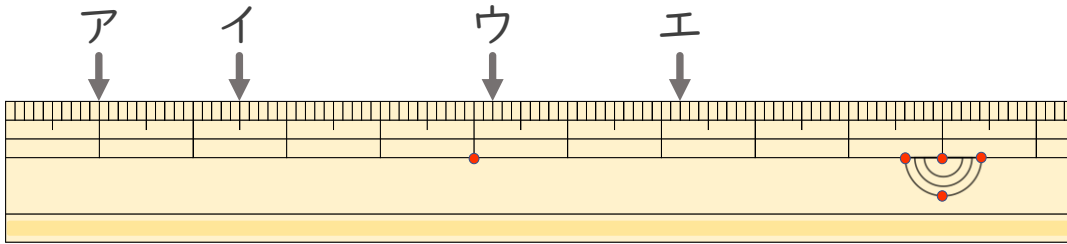
16

めざせ85点!



名まえ \_\_\_\_\_

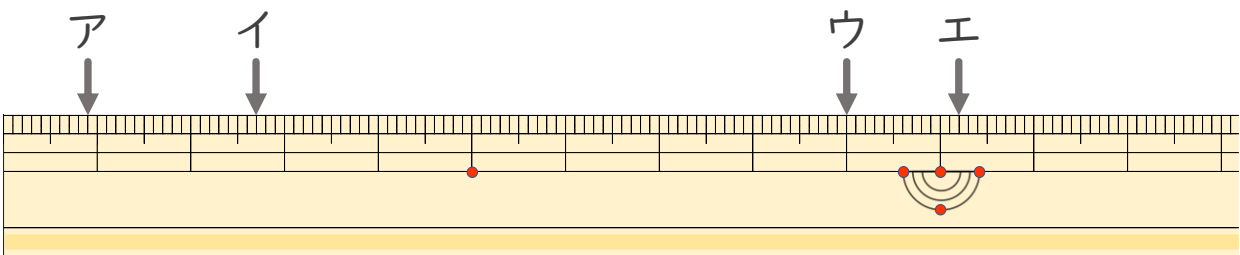
1 <sup>ひだり</sup>左はしから ア、イ、ウ、<sup>なが</sup>までの長さはそれぞれどれだけで  
すか。(各<sup>かく</sup>10<sup>てん</sup>点)



ア ( )      イ ( )

ウ ( )      エ ( )

2 <sup>ひだり</sup>左はしから ア、イ、ウ、エ<sup>なが</sup>までの長さはそれぞれどれだけ  
ですか。(各<sup>かく</sup>15<sup>てん</sup>点)



ア ( )      イ ( )

ウ ( )      エ ( )





# 長さのたんい 6

● ものさしの見かた (mm)

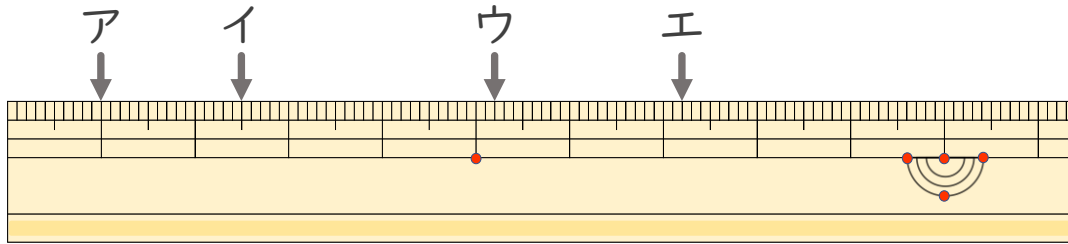
16

めざせ85点!



名まえ \_\_\_\_\_

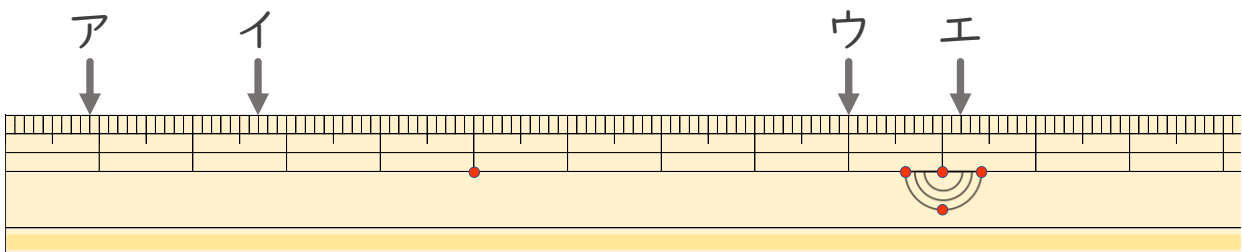
1 <sup>ひだり</sup>左はしから ア、イ、ウ、<sup>なが</sup>までの長さはそれぞれどれだけで  
すか。(各<sup>かく</sup>10<sup>てん</sup>点)



ア ( 1 cm )      イ ( 2 cm 5 mm )

ウ ( 5 cm 2 mm )      エ ( 7 cm 2 mm )

2 <sup>ひだり</sup>左はしから ア、イ、ウ、エ<sup>なが</sup>までの長さはそれぞれどれだけで  
ですか。(各<sup>かく</sup>15<sup>てん</sup>点)



ア ( 9 mm )      イ ( 2 cm 7 mm )

ウ ( 9 cm )      エ ( 10 cm 2 mm )