



はこの形 4

サイコロの向かい合う面

16

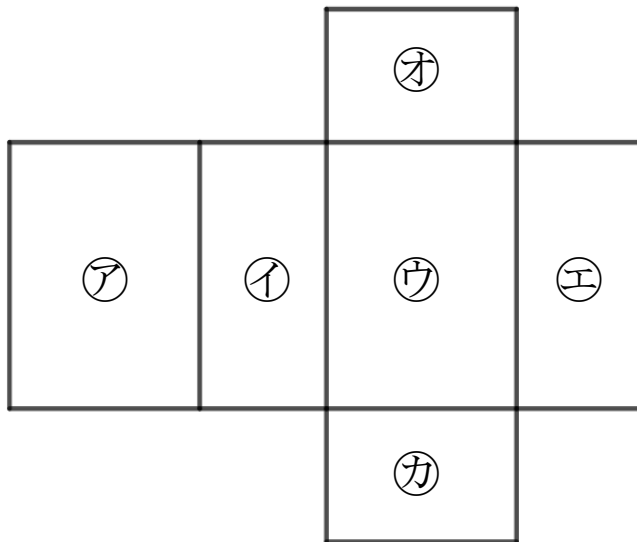
めざせ100点!



名まえ

1 つぎの図ははこの形を切りひらいたものです。
組み立てたときにおかい合う面を3組さがして、
ア~カで答えましょう。

(70点)

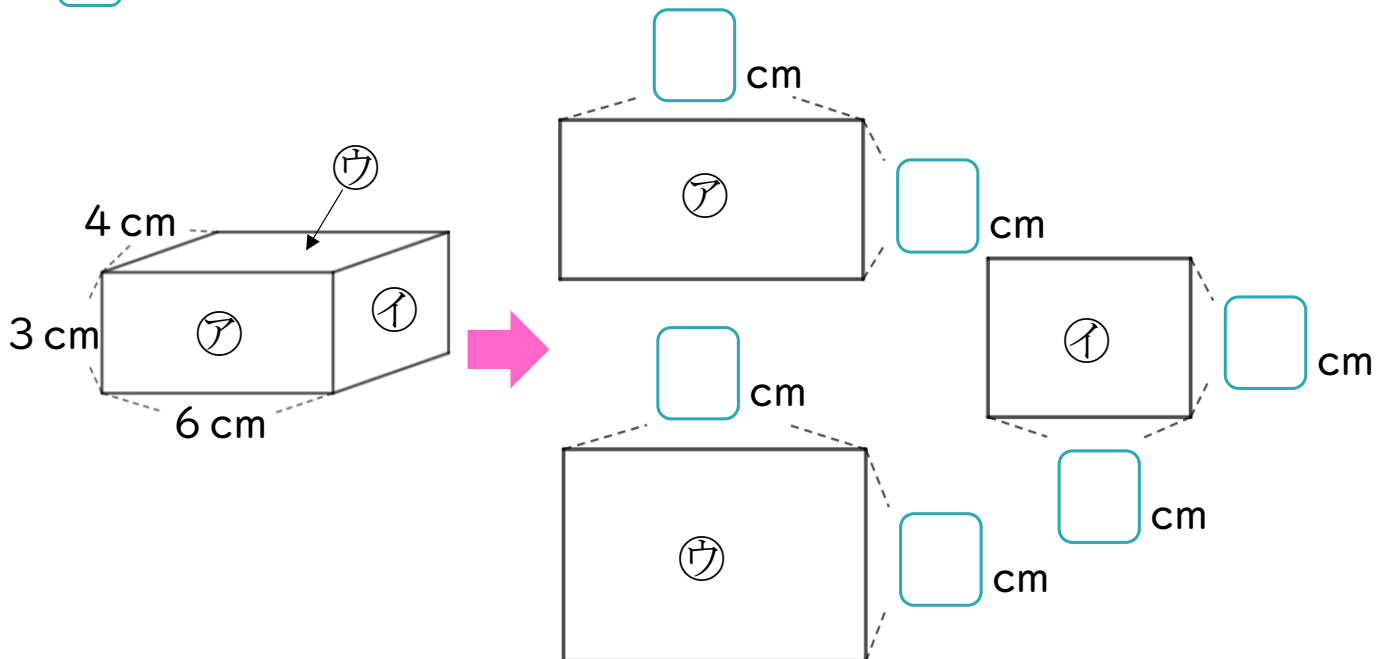


答え： と , と , と

2 つぎのはこの面をうつしとりました。

にあてはまる数を書きましょう。

(各5点)





はこの形 4

サイコロの向かい合う面

16

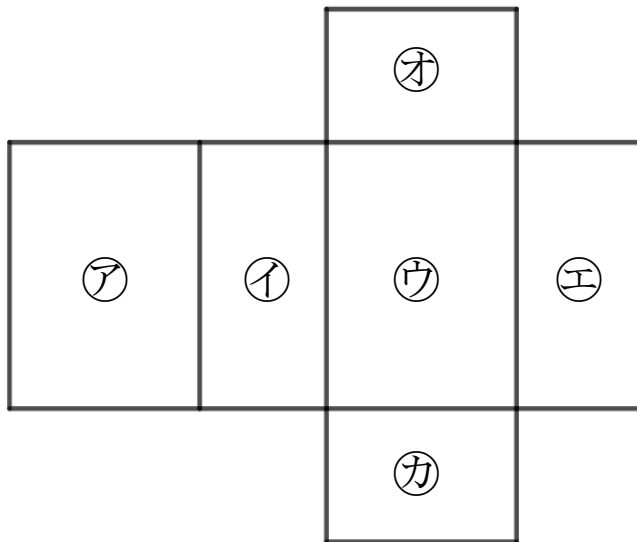
めざせ100点!



名まえ

- 1 つぎの図ははこの形を切りひらいたものです。
 組み立てたときにおかい合う面を3組さがして、
 ㉠~㉣で答えましょう。

(70点)



答え： ㉠ と ㉣ , ㉡ と ㉤ , ㉢ と ㉦

- 2 つぎのはこの面をうつしとりました。

にあてはまる数を書きましょう。

(各5点)

