



# 長さのたんい 5

● ミリメートル

16


めざせ80点!



名まえ \_\_\_\_\_


1 線の長さは何cm何mmでしょう。(各20点)

①



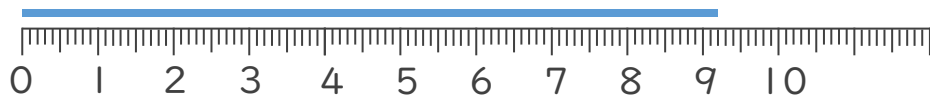
答え ( )

②



答え ( )

③



答え ( )

2 線の長さをものさしではかりましょう。(各20点)

①



答え ( )

②



答え ( )





# 長さのたんい 5

● ミリメートル

16

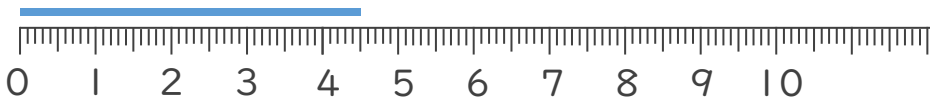
めざせ80点!



名まえ \_\_\_\_\_

1 線の長さは何cm何mmでしょう。(各20点)

①



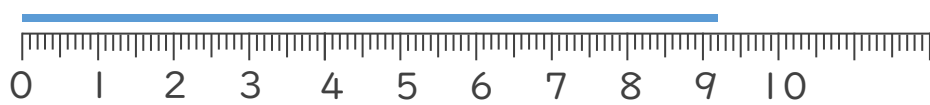
こた 答え ( 4 cm 5 mm )

②



こた 答え ( 3 cm 6 mm )

③



こた 答え ( 9 cm 2 mm )

2 線の長さをものさしではかりましょう。(各20点)

①



こた 答え ( 4 cm )

②



こた 答え ( 8 cm )

