




水のかさ3

リットル

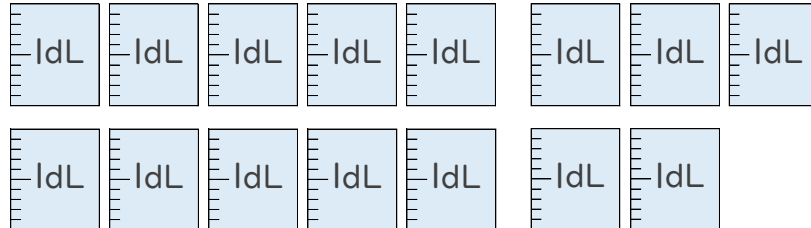
16

目指せ75点!



名まえ

1 つぎの ペットボトルに入る 水のかさを しらべましょう。(各25点)



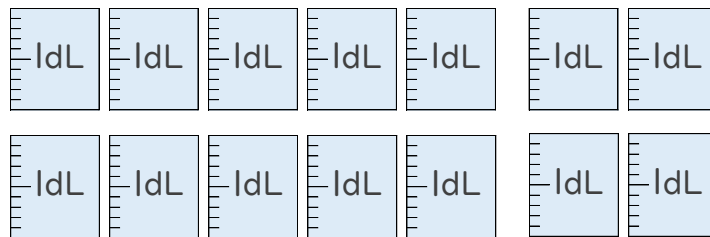
① ペットボトルに入る 水のかさは、何dLですか。

答え：

② ペットボトルに入る 水のかさは、何L何dLですか。

答え：

2 つぎの ペットボトルに入る 水のかさを しらべましょう。(各25点)



① ペットボトルに入る 水のかさは、何dLですか。

答え：

② ペットボトルに入る 水のかさは、何L何dLですか。

答え：




水のかさ 3

リットル

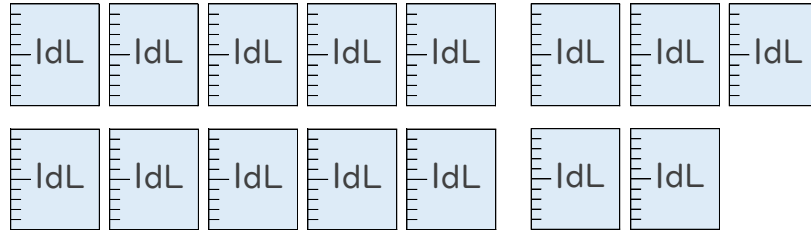
16

目指せ75点!



名まえ

1 つぎの ペットボトルに入る 水のかさを しらべましょう。(各25点)



① ペットボトルに入る 水のかさは、何dLですか。

答え： 15dL

② ペットボトルに入る 水のかさは、何L何dLですか。

答え： 1 L 5 dL

2 つぎの ペットボトルに入る 水のかさを しらべましょう。(各25点)



① ペットボトルに入る 水のかさは、何dLですか。

答え： 14dL

② ペットボトルに入る 水のかさは、何L何dLですか。

答え： 1 L 4 dL

