



水のかさ3

16

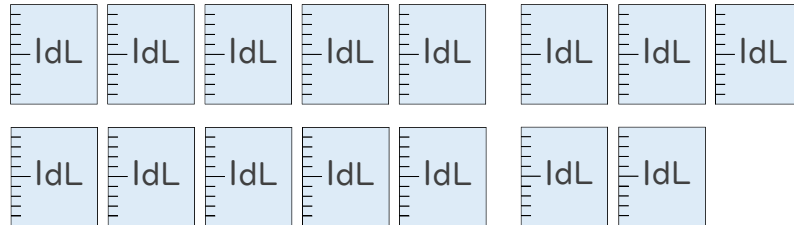
● リットル

目指せ75点!



名まえ

1 つぎのペットボトルに入る水のかさをしらべましょう。(各25点)



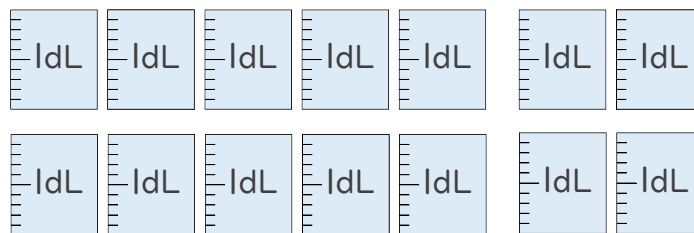
① ペットボトルに入る水のかさは、何dLですか。

答え：

② ペットボトルに入る水のかさは、何L何dLですか。

答え：

2 つぎのペットボトルに入る水のかさをしらべましょう。(各25点)



① ペットボトルに入る水のかさは、何dLですか。

答え：

② ペットボトルに入る水のかさは、何L何dLですか。

答え：



水のかさ3

16

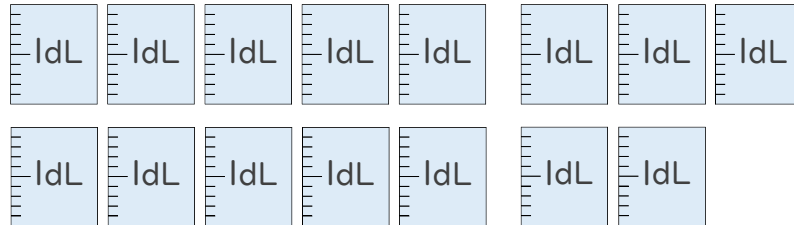
● リットル

目指せ75点!



名まえ

1 つぎのペットボトルに入る水のかさをしらべましょう。(各25点)



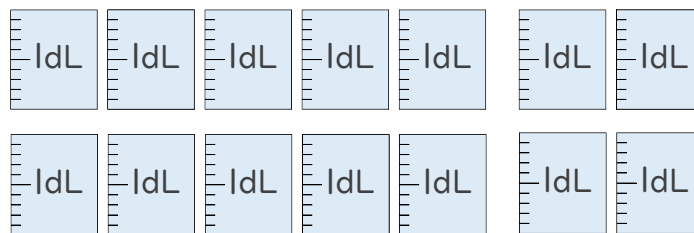
① ペットボトルに入る水のかさは、何dLですか。

答え： 15dL

② ペットボトルに入る水のかさは、何L何dLですか。

答え： 1L5dL

2 つぎのペットボトルに入る水のかさをしらべましょう。(各25点)



① ペットボトルに入る水のかさは、何dLですか。

答え： 4dL

② ペットボトルに入る水のかさは、何L何dLですか。

答え： 1L4dL