




かけ算 26

● リボンの2ばいの長さ

16

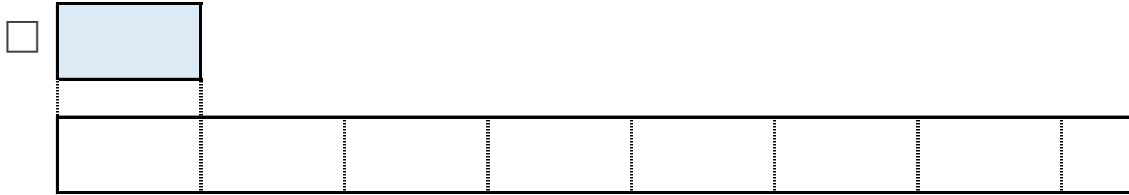
目指せ75点!



名まえ _____

1 ㊦のリボンの5ばいの長さを求めましょう。

① ㊦のリボンの5ばいの長さに色をぬりましょう。(25点)



② ㊦のリボンの長さは、7cmです。

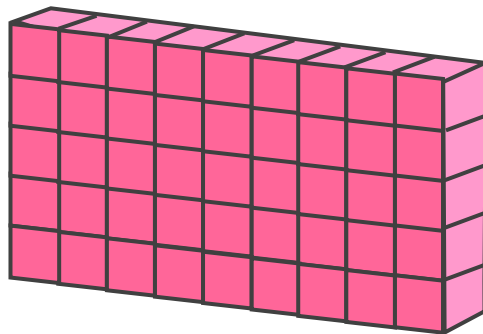
①でぬったところの長さは何cmですか。(25点)

しき：

答え： _____

2 下のつみきの数をもとめるかけ算のしきを2つ書きましょう。

(50点)



しき： () ()






かけ算 26

● リボンの2ばいの長さ

16

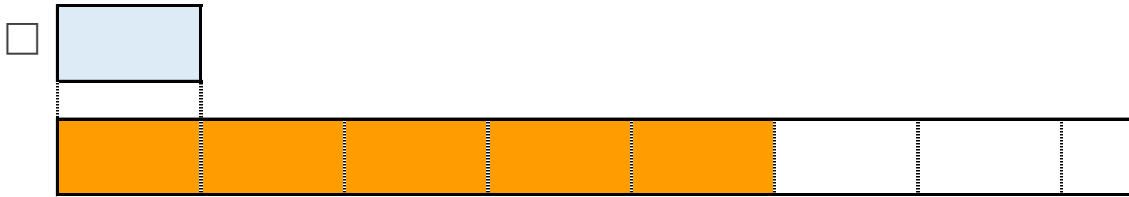
目指せ75点!



名まえ _____

1 ㊦のリボンの5ばいの長さをもとめましょう。

① ㊦のリボンの5ばいの長さに色をぬりましょう。(25点)



② ㊦のリボンの長さは、7cmです。

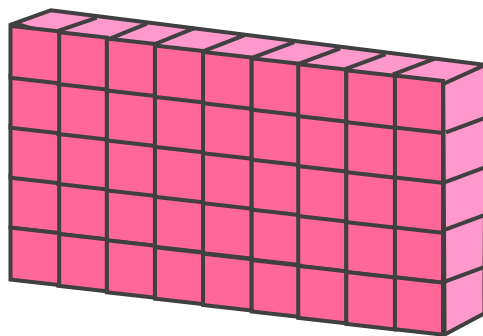
①でぬったところの長さは何cmですか。(25点)

$$\text{しき} : 7 \times 5 = 35$$

答え : 35cm

2 下の積みきの数をもとめるかけ算のしきを2つ書きましょう。

(50点)



$$\text{しき} : (5 \times 9) \quad (9 \times 5)$$

