




かけ算 00

● 九のだんの九九

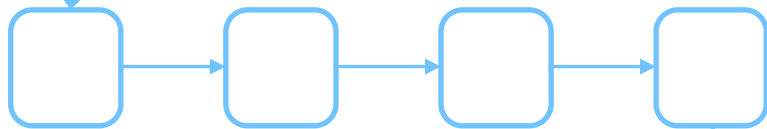
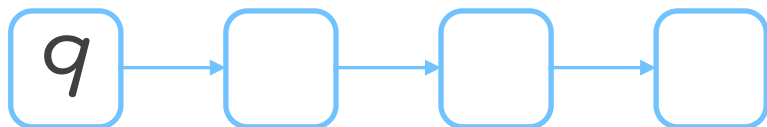


日にち： 月 日


名まえ _____



1. つぎの にあてはまる数を書こう。
(ぜんぶ せいはいで 50点)



81



2. つぎの計算をしましょう。
(1もん 10点ずつ)

① $9 \times 3 =$

② $9 \times 8 =$

③ $9 \times 4 =$

④ $9 \times 7 =$

⑤ $9 \times 2 =$





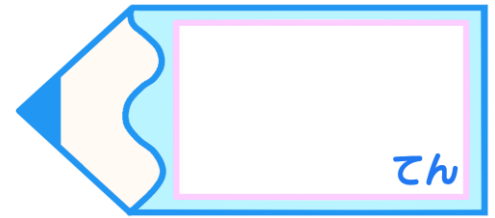
かけ算 00

● 九のだんの九九


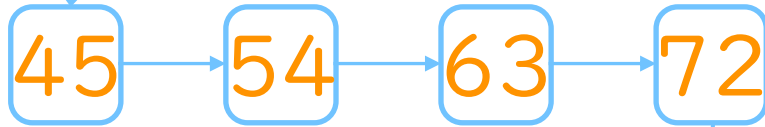
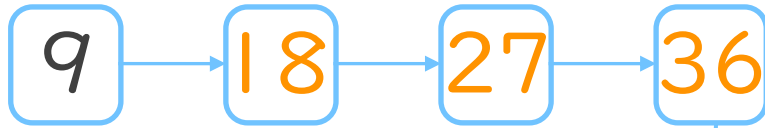


日にち： 月 日

名まえ _____



1. つぎの にあてはまる数を書こう。
(ぜんぶ せい かい いて 50 点)



2. つぎの計算をしましょう。
(1もん 10点ずつ)

① $9 \times 3 = 27$

② $9 \times 8 = 72$

③ $9 \times 4 = 36$

④ $9 \times 7 = 63$

⑤ $9 \times 2 = 18$

