



分数7

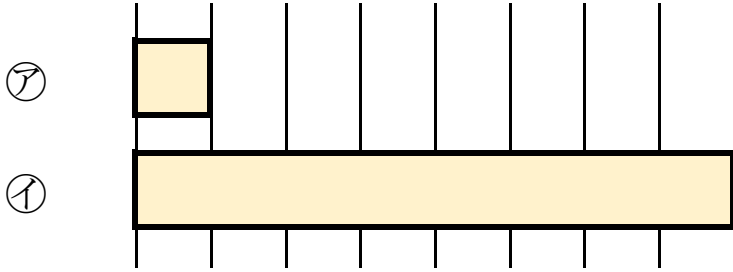
何倍？何分の一？



日にち： 月 日

名まえ

1 つぎの図を見てもんだいに答えましょう。



① 下の⑩のテープの長さは、⑦のテープの長さの何ばいですか。

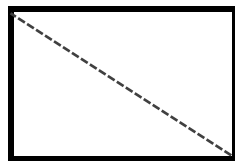
答え：

② 上の⑦のテープの長さは、⑩のテープの長さの何分の一ですか。

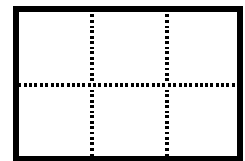
答え：

2 つぎの大きさに色をぬりましょう。


① $\frac{1}{2}$




③ $\frac{1}{6}$



② $\frac{1}{5}$



④ $\frac{1}{3}$





分数7

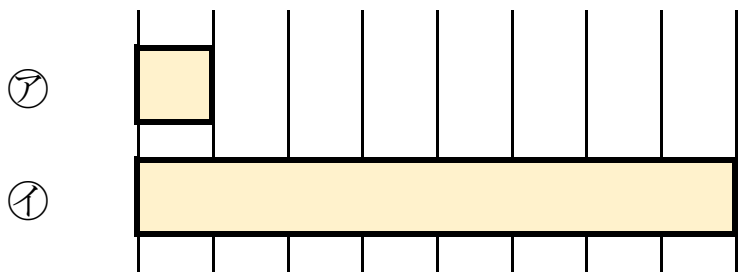
何倍？何分の一？



日にち： 月 日

名まえ

1 つぎの図を見てもんだいに答えましょう。



① 下の①のテープの長さは、⑦のテープの長さの何ばいですか。

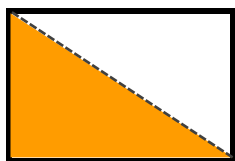
答え： 8 ばい

② 上の⑦のテープの長さは、①のテープの長さの何分の一ですか。

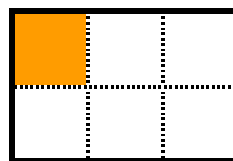
答え： $\frac{1}{8}$

2 つぎの大きさに色をぬりましょう。


① $\frac{1}{2}$



③ $\frac{1}{6}$



② $\frac{1}{5}$



④ $\frac{1}{3}$

