



3けたの数8

● 十ずつのメモリの数直線



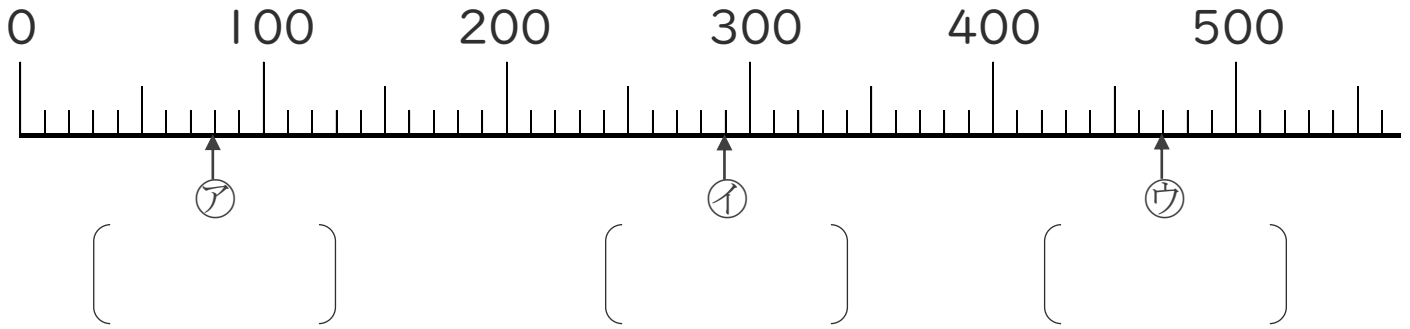
めざせ90点!



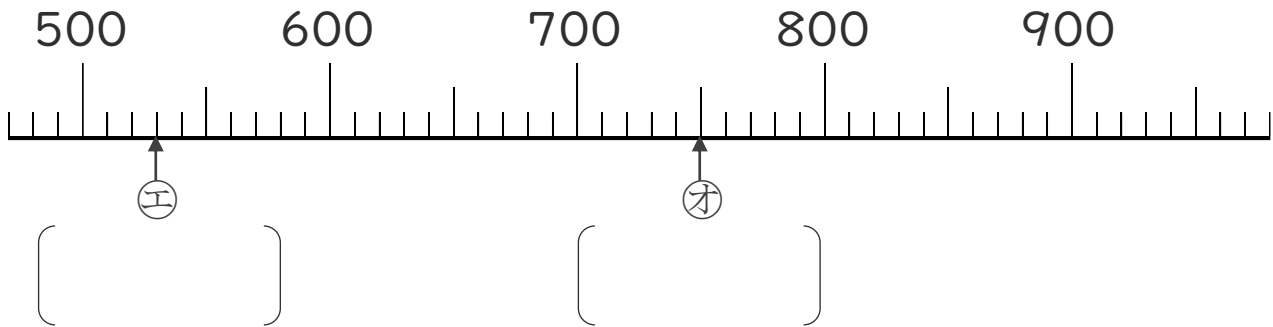
名まえ _____

1 数の線を見て、ア、イ、ウ、エ、オのメモリがあらわす数をいみましょう。(各14点)

①

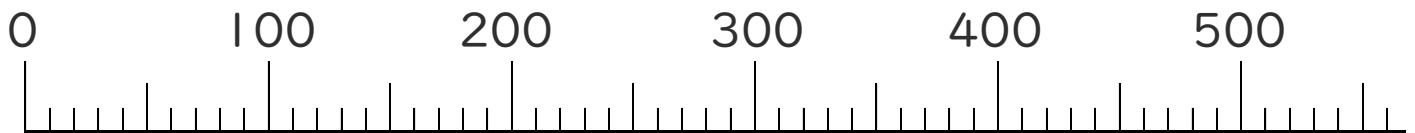


②



2 つぎの数をあらわすメモリに、↑をかきましょう。(各10点)

① 130 ② 290 ③ 450





3けたの数 8

● 十ずつのメモリの数直線



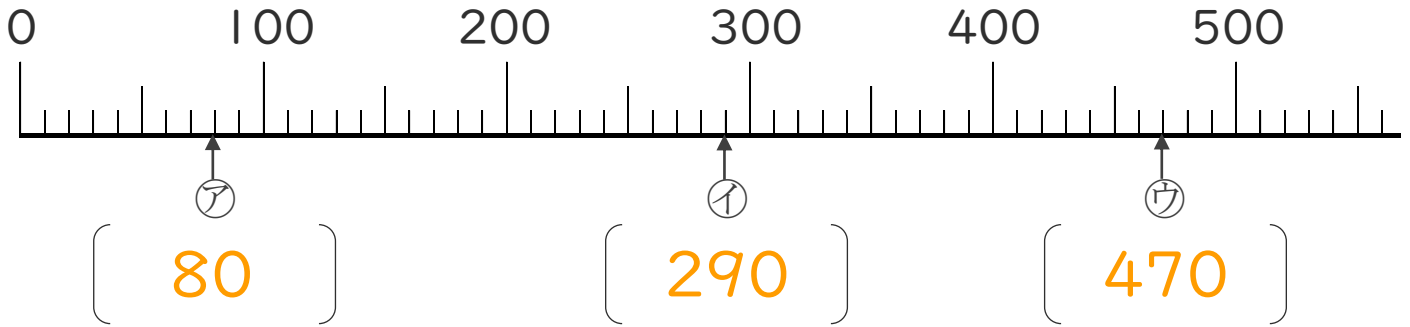
めざせ90点!



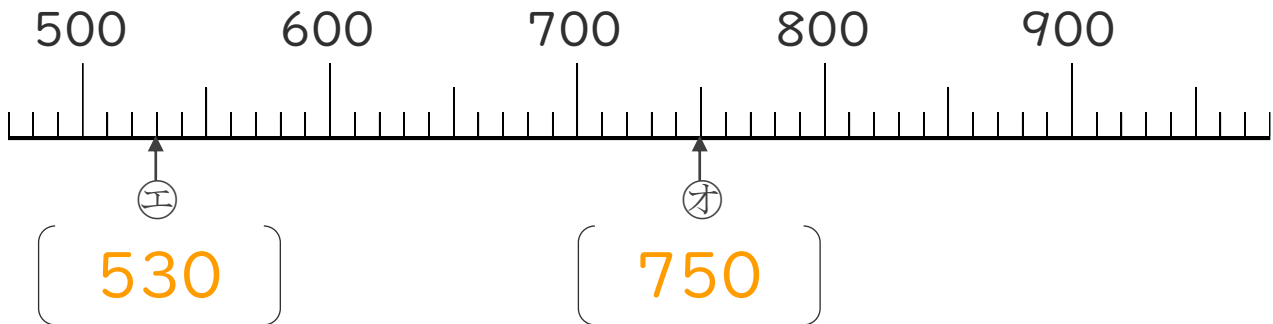
名まえ _____

1 数の線を見て、ア、イ、ウ、エ、オのメモリがあらわす数をいみましょう。(各14点)

①



②



2 つぎの数をあらわすメモリに、↑をかきましょう。(各10点)

① 130 ② 290 ③ 450

