



分数5

● 同じ長さに分けた  
テープの1つ分の長さ

16

目指せ80点!

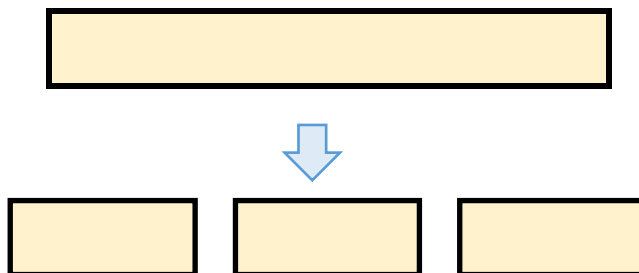


名まえ

1 同じ長さになるように、テープを3つに分けました。

分けた1つ分の長さは、もとの長さの何分の一ですか。(20点)

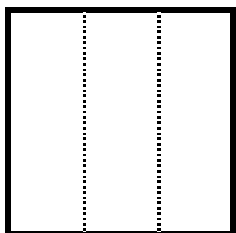
もとの長さ



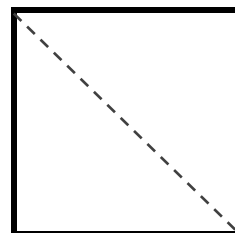
答え：

2 つぎの大きさに色をぬりましょう。(各20点)


①  $\frac{1}{3}$



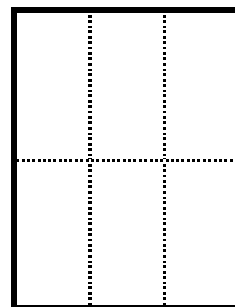
③  $\frac{1}{2}$




②  $\frac{1}{7}$



④  $\frac{1}{6}$



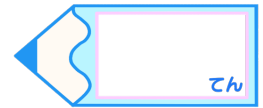


分数5

● 同じ長さに分けた  
テープの1つ分の長さ

16

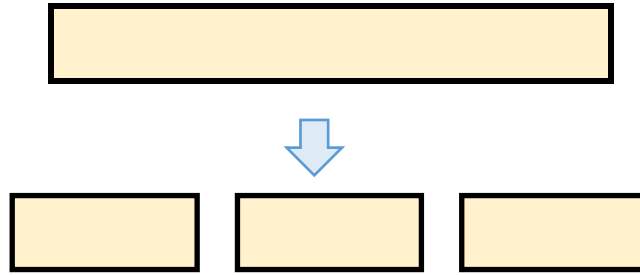
目指せ80点!



名まえ

- 1 同じ長さになるように、テープを3つに分けました。  
分けた1つ分の長さは、もとの長さの何分の一ですか。(20点)


もとの長さ



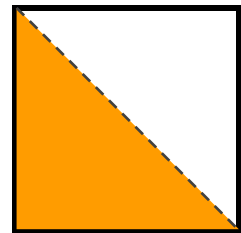
答え： $\frac{1}{3}$

- 2 つぎの大きさに色をぬりましょう。(各20点)


①  $\frac{1}{3}$



③  $\frac{1}{2}$



②  $\frac{1}{7}$



④  $\frac{1}{6}$

