




分数5

● 同じ長さに分けた
テープの1つ分の長さ



目指せ80点!

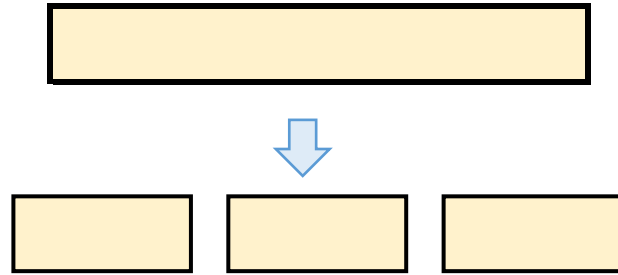


名まえ

1 同じ長さになるように、テープを3つに分けました。

分けた1つ分の長さは、もとの長さの何分の一ですか。(20点)


もとの長さ



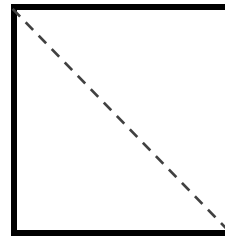
答え：

2 つぎの大きさに色をぬりましょう。(各20点)

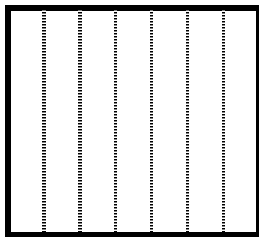
① $\frac{1}{3}$




③ $\frac{1}{2}$



② $\frac{1}{7}$



④ $\frac{1}{6}$






分数5

● 同じ長さに分けた
テープの1つ分の長さ



目指せ80点!




てん

名まえ

1 同じ長さになるように、テープを3つに分けました。

分けた1つ分の長さは、もとの長さの何分の一ですか。(20点)

もとの長さ




答え：

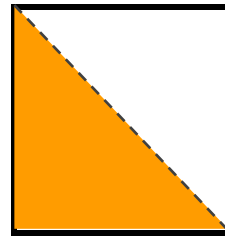
$$\frac{1}{3}$$

2 つぎの大きさに色をぬりましょう。(各20点)


① $\frac{1}{3}$



③ $\frac{1}{2}$



② $\frac{1}{7}$



④ $\frac{1}{6}$

