



図を使って
考えよう 3

16

● 帰った人は何人？

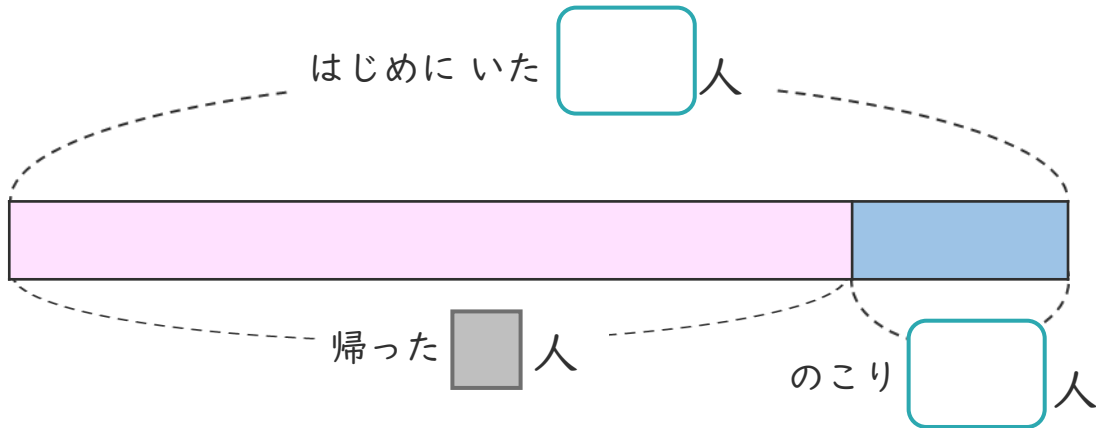
めざせ100点!



名まえ

- 公園で子どもが35人あそんでいました。
何人か帰り、のこった人数は6人になりました。

① 下の図の □ にあう数を書きましょう。(各25点)




② 帰った人は、何人ですか。

しきと答えを書きましょう。(各25点)

しき ()

答え ()

<筆算スペース>





図を使って
考えよう 3

16

● 帰った人は何人？

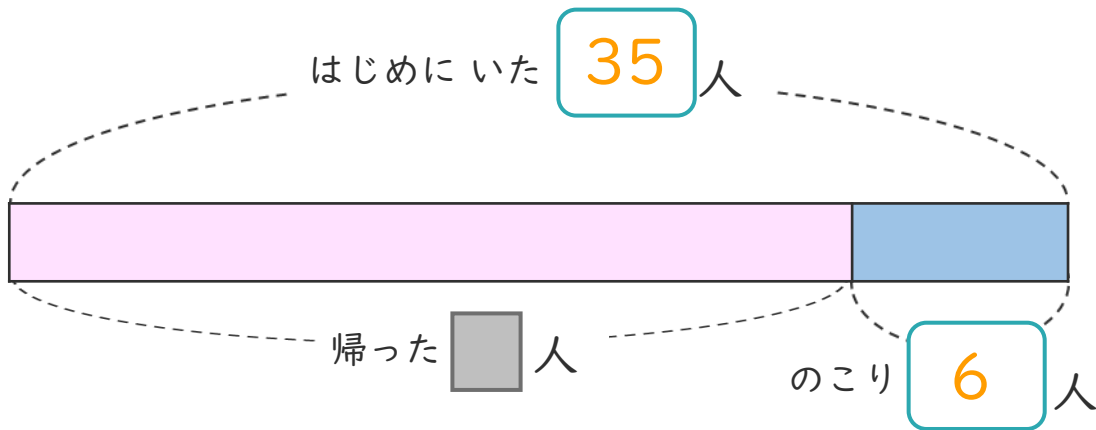
めざせ100点!



名まえ

- 公園で子どもが35人あそんでいました。
何人か帰り、のこった人数は6人になりました。

① 下の図の □ にあう数を書きましょう。(各25点)



② 帰った人は、何人ですか。

しきと答えを書きましょう。(各25点)

しき $\left(35 - 6 = 29 \right)$

答え $\left(29 \text{人} \right)$

<筆算スペース>

