



3けたの数 5

◎ 百や十や一を
集めてつくる数



目指せ90点!



名まえ _____

1 □ にあう数を書きましょう。(各20点)

① 291は、100を□こ、10を□こ、1を□こあわせた数です。


② 405は、100を□こ、1を□こあわせた数です。

③ 百のくらの数字が9、十のくらの数字が0、
一のくらの数字が4の数は□□□です。

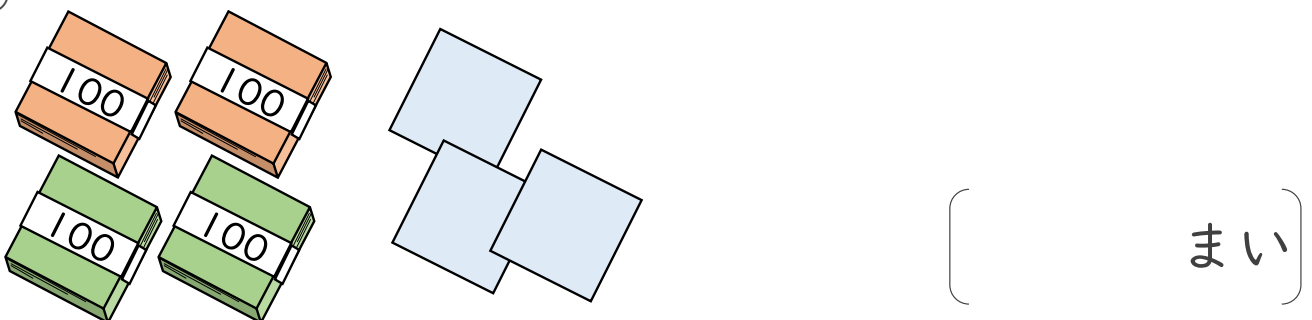
④ 100を3こ、10を7こあわせた数は□□□です。

2 ぼうや色紙の数を、数字で書きましょう。(各10点)

①



②





3けたの数 5

◎ 百や十や一を
集めてつくる数

16

目指せ90点!



名まえ _____

1 □にあう数を書きましょう。(各20点)

① 291は、100を **2** こ、10を **9** こ、1を **1** こあわせた数です。


② 405は、100を **4** こ、1を **5** こあわせた数です。

③ 百のくらいの数字が **9**、十のくらいの数字が **0**、
一のくらいの数字が **4** の数は **904** です。

④ 100を3こ、10を7こあわせた数は **370** です。

2 ぼうや色紙の数を、数字で書きましょう。(各10点)

①



②

