



長さのたんい 8

◎ 直線の長さをはかる (mm)

16

めざせ80点!



名まえ _____

1 線の長さをものさしではかりましょう。(各20点)

①



答え ()

②



答え ()

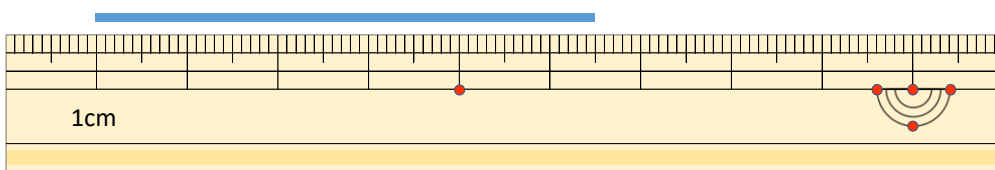
③



答え ()

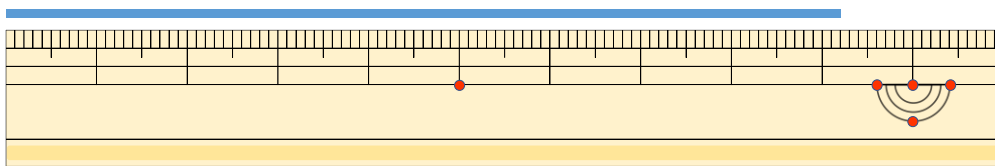
2 線の長さはどれだけですか。(各20点)

①



答え ()

②



答え ()





長さのたんい 8

◎ 直線の長さをはかる (mm)

16

めざせ80点!



名まえ _____

1 線の長さをものさしではかりましょう。(各20点)



答え (4 cm 5 mm)

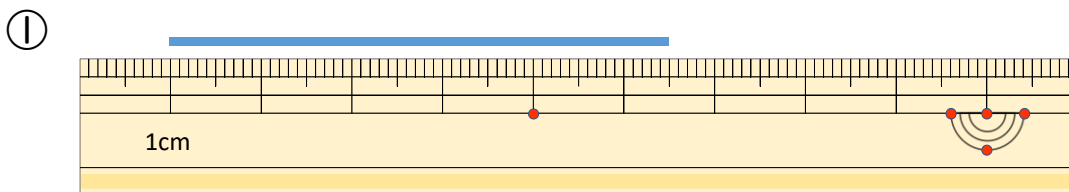


答え (2 cm 8 mm)

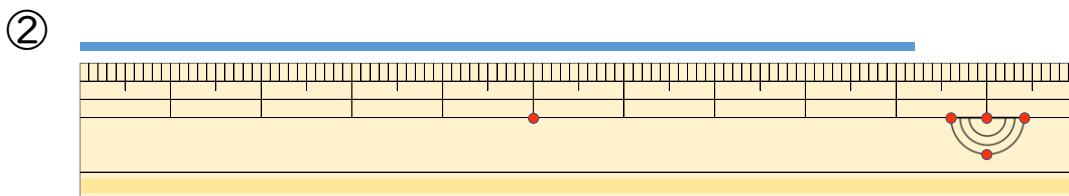


答え (5 cm)

2 線の長さはどれだけですか。(各20点)



答え (5 cm 5 mm)



答え (9 cm 2 mm)

