




かけ算 2

絵を見てかけ算のしきを作ろう



日にち： 月 日

めざせ100点!



名まえ _____

絵を見て、かけ算のしきをつかって、ぜんぶでいくつか答えましょう。(各50点)


①



しき：

答え： _____

②



しき：

答え： _____





かけ算 2


絵を見てかけ算の
しきを作ろう

16

日にち： 月 日

名まえ _____

めざせ100点!



絵を見て、かけ算のしきをつかって、ぜんぶでいくつか答えましょう。(各50点)


①



しき： $9 \times 3 = 27$

答え：27こ

②



しき： $6 \times 3 = 18$

答え：18こ

