



図を使って
考えよう！

● 買った数は何こ？

16

めざせ100点!

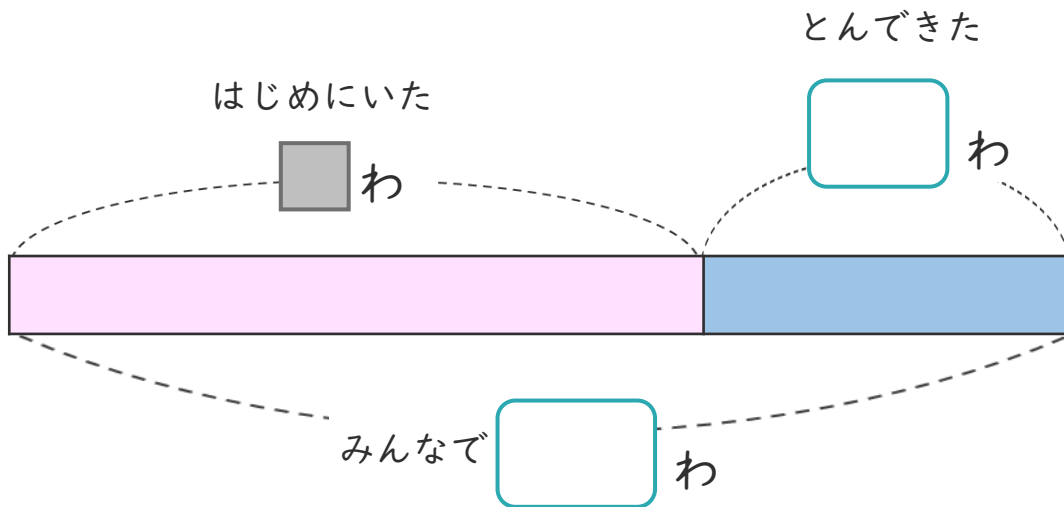


名まえ _____

・ はとが何わかいました。

そこへ7わとんできたので、みんなで26わになりました。

① 下の図の □ にあう数を書きましょう。(各25点)




② はじめにいた はとは何わですか。

しきと 答えを書きましょう。(各25点)

しき ()

答え ()

<筆算スペース>






図を使って
考えよう！

● 買った数は何こ？

16

めざせ100点!

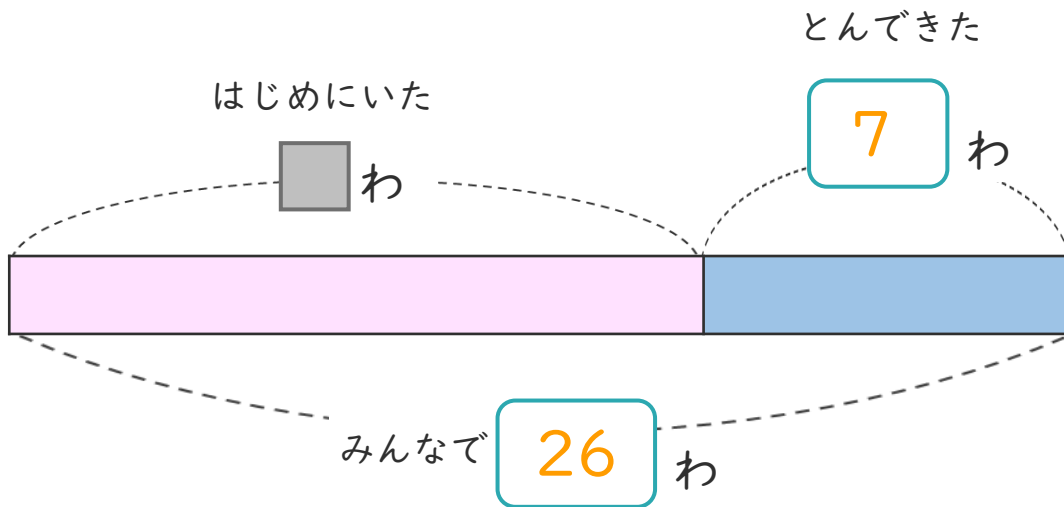


名まえ

・ はとが何わかいました。

そこへ7わとんできたので、みんなで26わになりました。

① 下の図の□にあう数を書きましょう。(各25点)



② はじめにいた はとは何わですか。

しきと 答えを書きましょう。(各25点)

しき $\left(26 - 7 = 19 \right)$

答え $\left(19 \text{わ} \right)$

<筆算スペース>

