



長方形と正方形 8

● 長方形や直角三角形をかいてみよう

16

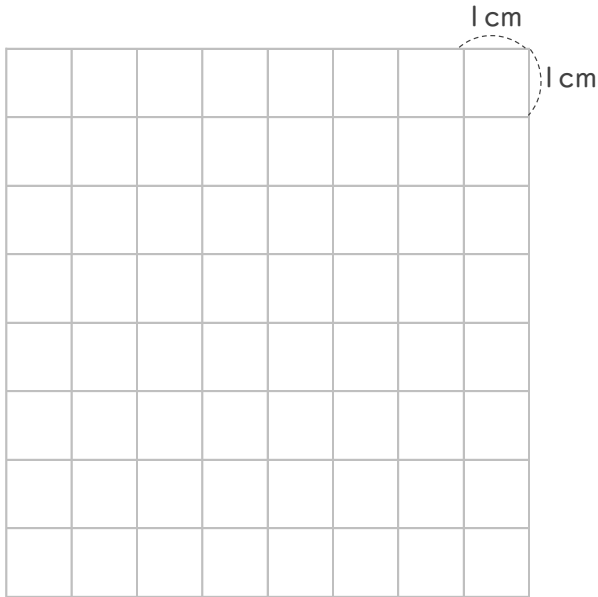
めざせ75点!



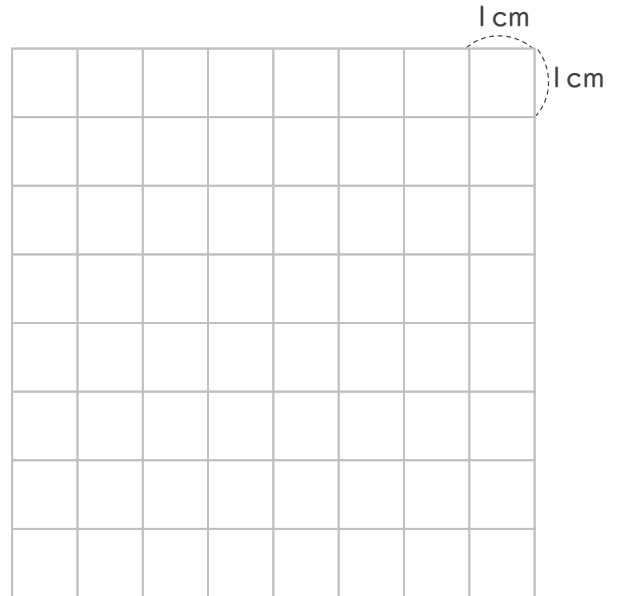
名まえ

1 つぎの形を書きましょう。(各25点)

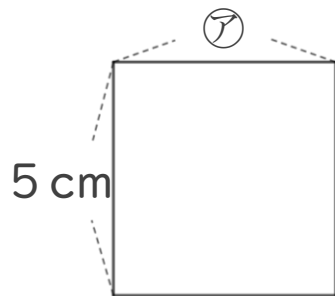
① たて6cm よこ3cmの長方形。



② 4cmのへんと6cmのへんの間に直角のかどがある直角三角形。



2 つぎの形は正方形です。つぎのもんだいに答えましょう。(各25点)



① アのへんの長さは、何cmですか。

答え：

② この正方形のまわりの長さは何cmですか。

しき：

答え：



長方形と正方形 8

● 長方形や直角三角形をかいてみよう

16

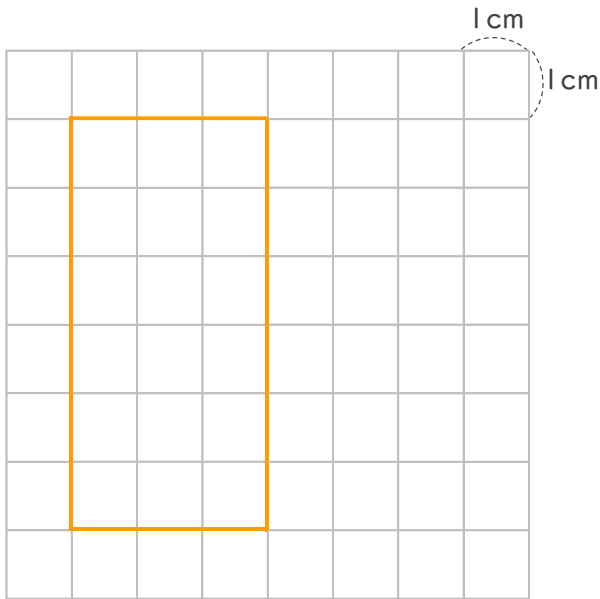
めざせ75点!



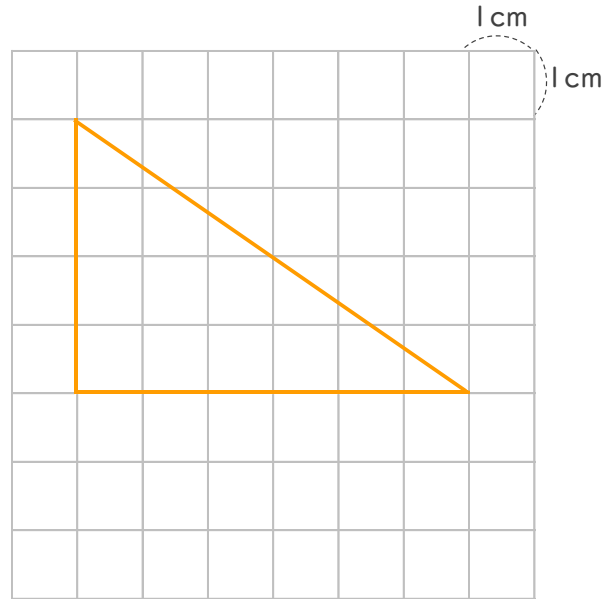
名まえ _____

1 つぎの形を書きましょう。(各25点)

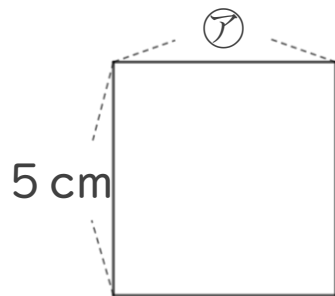
① たて6cm よこ3cmの長方形。



② 4cmのへんと6cmのへんの間に直角のかどがある直角三角形。



2 つぎの形は正方形です。つぎのもんだいに答えましょう。(各25点)



① アのへんの長さは、何cmですか。

答え： **5 cm**

② この正方形のまわりの長さは何cmですか。

しき： $5 + 5 + 5 + 5 = 20$

答え： **20cm**