




## 長方形と正方形 8

● 長方形や直角三角形をかいてみよう

16

めざせ100点!

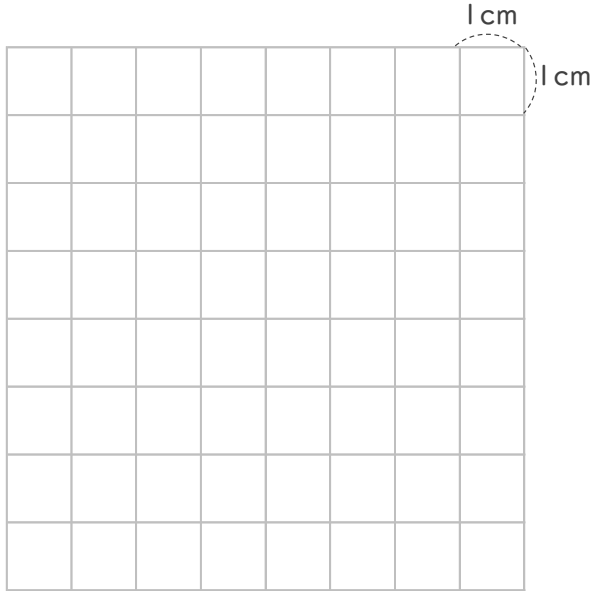


名まえ

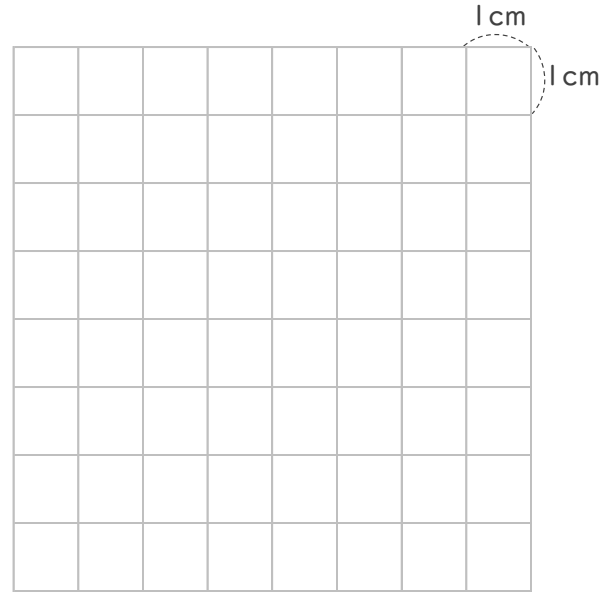
---

1 つぎの形を書きましょう。(各25点)

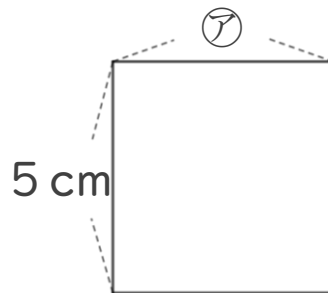
- ① たて6 cm よこ3 cmの長方形。



- ② 4 cmのへんと6 cmのへんの間に直角のかどがある直角三角形。



2 つぎの形は正方形です。つぎのもんだいに答えましょう。(各25点)



- ① アのへんの長さは、何cmですか。

答え：

---

- ② この正方形のまわりの長さは何cmですか。

しき：

答え：

---




# 長方形と正方形 8

● 長方形や直角三角形をかいてみよう

16

めざせ100点!

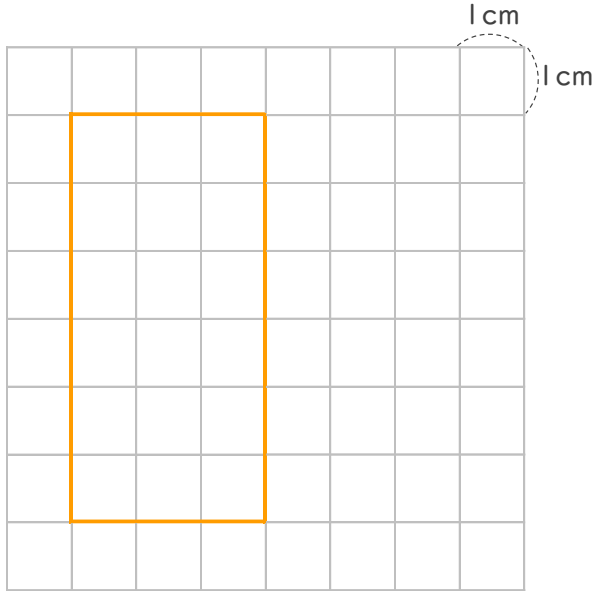


名まえ

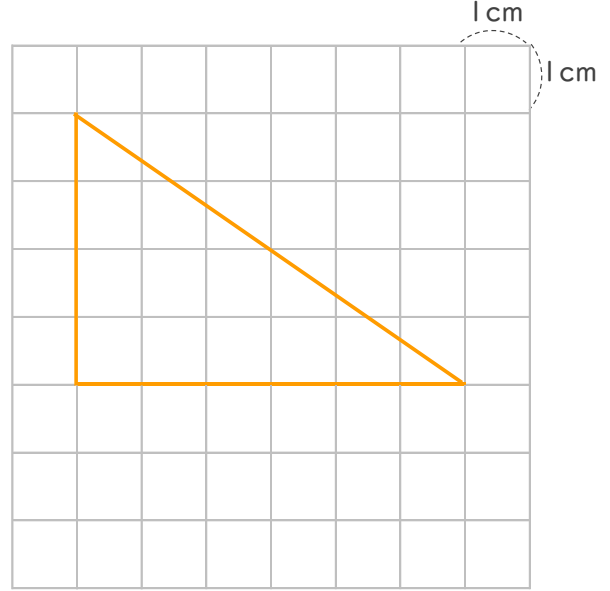
---

1 つぎの形を書きましょう。(各25点)

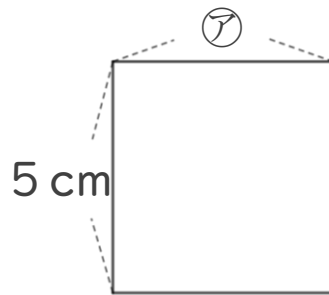
① たて6cm よこ3cmの長方形。



② 4cmのへんと6cmのへんの間に直角のかどがある直角三角形。



2 つぎの形は正方形です。つぎのもんだいに答えましょう。(各25点)



① アのへんの長さは、何cmですか。

答え： 5 cm

---

② この正方形のまわりの長さは何cmですか。

しき： $5 + 5 + 5 + 5 = 20$

答え： 20cm

---