



## 4けたの数5

● 4けたの  
それぞれのくらいの数字



目指せ100点!



名まえ \_\_\_\_\_

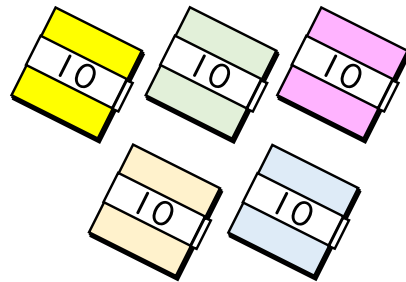
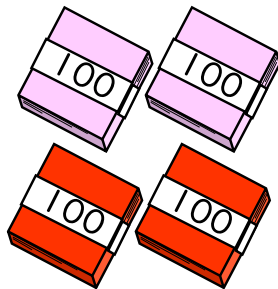

1 □ にあう数を書きましょう。(各25点)

① 4569の千のくらいの数字は □ ,百のくらいの数字は □ ,  
十のくらいの数字は □ ,一のくらいの数字は □ です。

② 千のくらいの数字が3,百のくらいの数字が1,十のくらいの  
数字が0,一のくらいの数字が7の数は □ です。

③ 7904の千のくらいの数字は □ ,百のくらいの数字は □ ,  
十のくらいの数字は □ ,一のくらいの数字は □ です。

2 色紙の数を 数字で書きましょう。(25点)



{ 3450 まい }



## 4けたの数5

● 4けたの  
それぞれのくらの数字



目指せ100点!



名まえ

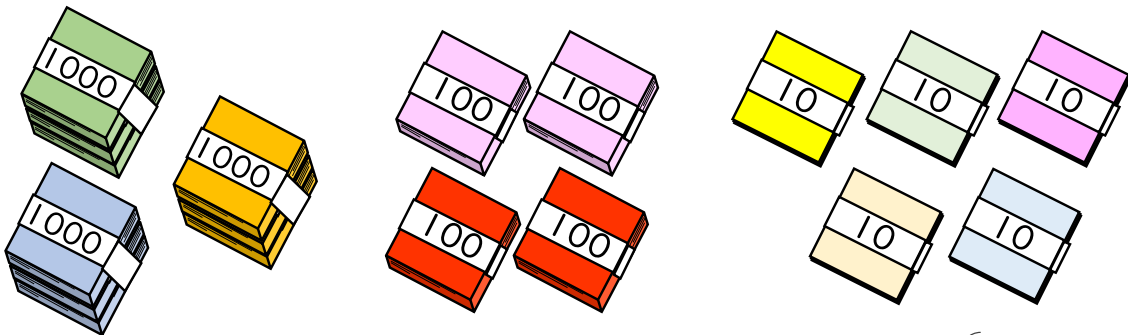
1  にあう数を書きましょう。(各25点)

① 4569の千のくらの数字は  ,百のくらの数字は  ,  
十のくらの数字は  ,一のくらの数字は  です。

② 千のくらの数字が3,百のくらの数字が1,十のくらの  
数字が0,一のくらの数字が7の数は  です。

③ 7904の千のくらの数字は  ,百のくらの数字は  ,  
十のくらの数字は  ,一のくらの数字は  です。

2 色紙の数を 数字で書きましょう。(25点)



まい