



4けたの数5

● 4けたの
それぞれのくらの数字



目指せ100点!



名まえ _____

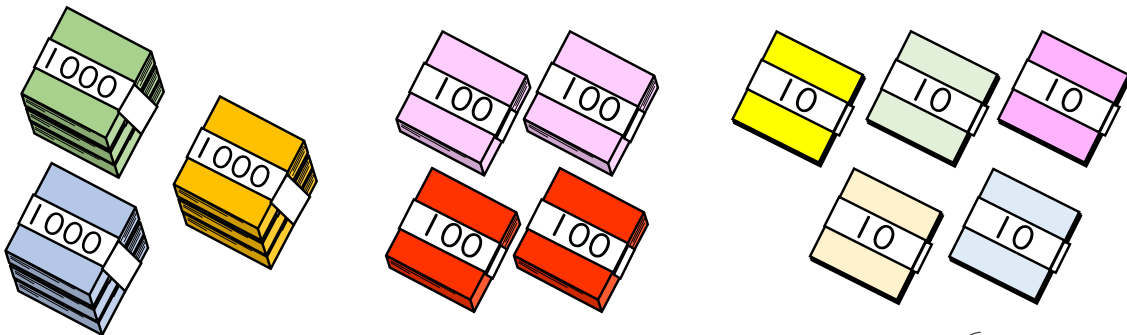
1 にあう数を書きましょう。(各25点)

① 4569の千のくらの数字は ,百のくらの数字は ,
十のくらの数字は ,一のくらの数字は です。

② 千のくらの数字が3,百のくらの数字が1,十のくらの
数字が0,一のくらの数字が7の数は です。

③ 7904の千のくらの数字は ,百のくらの数字は ,
十のくらの数字は ,一のくらの数字は です。

2 色紙の数を 数字で書きましょう。(25点)



{ 3450 まい }



4けたの数5

● 4けたの
それぞれのくらいの数字



目指せ100点!



名まえ

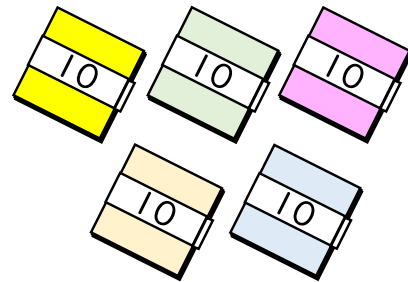
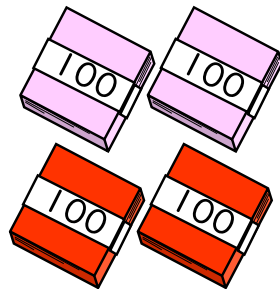

1 にあう数を書きましょう。(各25点)

① 4569の千のくらいの数字は ,百のくらいの数字は ,
十のくらいの数字は ,一のくらいの数字は です。

② 千のくらいの数字が3,百のくらいの数字が1,十のくらいの
数字が0,一のくらいの数字が7の数は です。

③ 7904の千のくらいの数字は ,百のくらいの数字は ,
十のくらいの数字は ,一のくらいの数字は です。

2 色紙の数を 数字で書きましょう。(25点)



まい