




4けたの数 5

● 4けたの
それぞれのくらの数字

16

目指せ100点!



名まえ

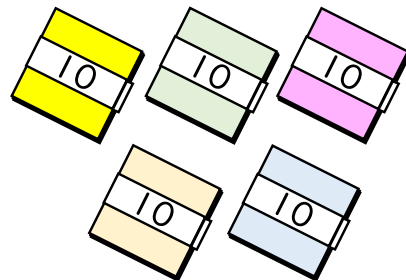


1 に あう数を書きましょう。(各25点)

① 4569の 千のくらの数字は ,百のくらの数字は ,
十のくらの数字は ,一のくらの数字は です。

② 千のくらの数字が3,百のくらの数字が1,十のくらの
数字が0,一のくらの数字が7の数は です。

③ 7904の 千のくらの数字は ,百のくらの数字は ,
十のくらの数字は ,一のくらの数字は です。

2 色紙の 数を 数字で 書きましょう。(25点)



まい





4けたの数 5

● 4けたの
それぞれのくらの数字

16

目指せ100点!



名まえ

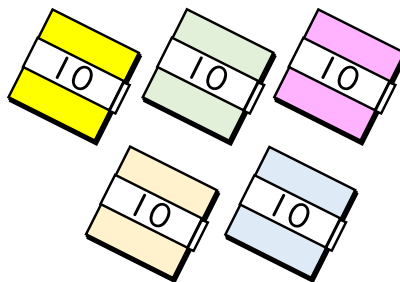
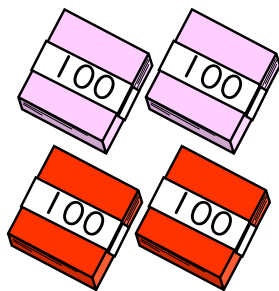

1 に あう数を書きましょう。(各25点)

① 4569の 千のくらの数字は ,百のくらの数字は ,
十のくらの数字は ,一のくらの数字は です。

② 千のくらの数字が3,百のくらの数字が1,十のくらの
数字が0,一のくらの数字が7の数は です。

③ 7904の 千のくらの数字は ,百のくらの数字は ,
十のくらの数字は ,一のくらの数字は です。

2 色紙の 数を 数字で 書きましょう。(25点)



まい

