




かけ算 6

4のだんの九九

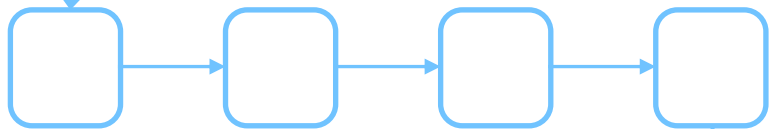
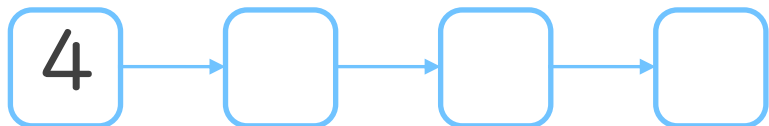


日にち： 月 日


名まえ _____



1. つぎの にあてはまる数を書こう。
(ぜんぶせいはいで50点)



36



2. つぎの計算をしましょう。
(1もん10点ずつ)

① $4 \times 3 =$

② $4 \times 8 =$

③ $4 \times 4 =$

④ $4 \times 7 =$

⑤ $4 \times 2 =$




かけ算 6

4のだんの九九

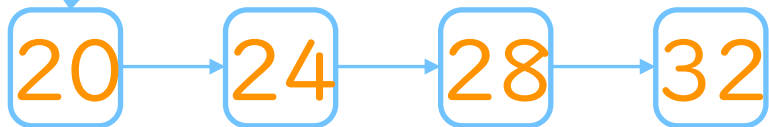
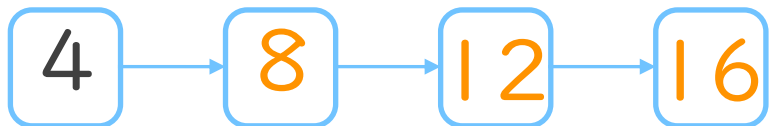


日にち： 月 日


名まえ _____



1. つぎの にあてはまる数を書こう。
(ぜんぶせいはいで50点)



36



2. つぎの計算をしましょう。
(1もん10点ずつ)

① $4 \times 3 = 12$

② $4 \times 8 = 32$

③ $4 \times 4 = 16$

④ $4 \times 7 = 28$

⑤ $4 \times 2 = 8$