



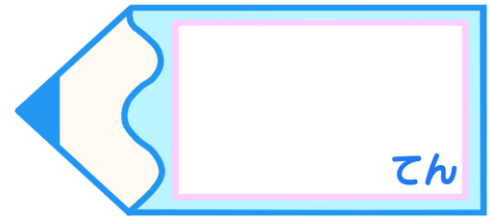
かけ算 8

6のだんの九九

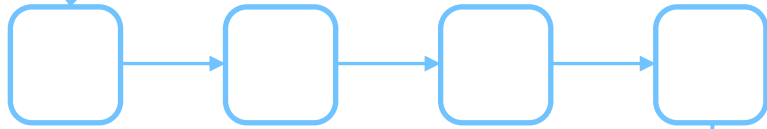
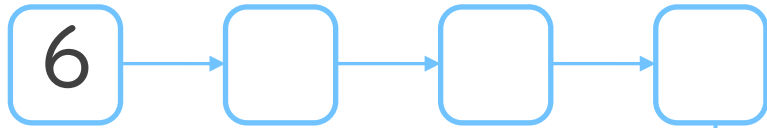


日にち： 月 日


名まえ _____



1. つぎの にあてはまる数を書こう。
(ぜんぶ せいかいで 50点)



54



2. つぎの計算をしましょう。
(1もん 10点ずつ)

① $6 \times 3 =$

② $6 \times 8 =$

③ $6 \times 4 =$

④ $6 \times 7 =$

⑤ $6 \times 2 =$



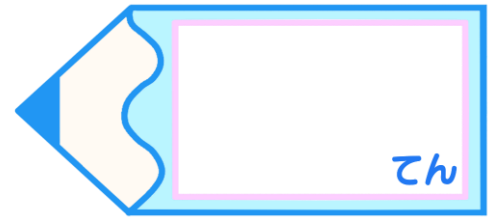
かけ算 8

6のだんの九九


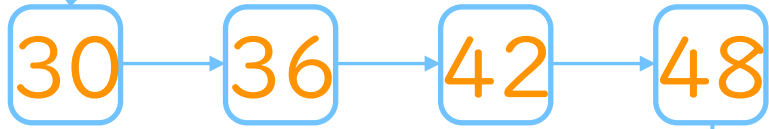
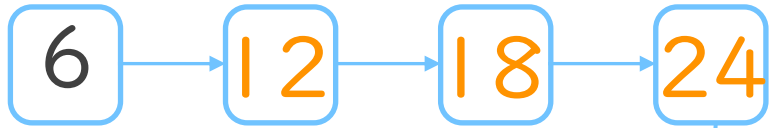


日にち： 月 日

名まえ _____



1. つぎの にあてはまる数を書こう。
(ぜんぶ せい かい いて 50 点)



2. つぎの計算をしましょう。
(1もん 10点ずつ)

① $6 \times 3 = 18$

② $6 \times 8 = 48$

③ $6 \times 4 = 24$

④ $6 \times 7 = 42$

⑤ $6 \times 2 = 12$