



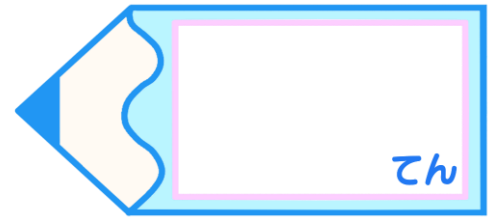
かけ算 9

7のだんの九九

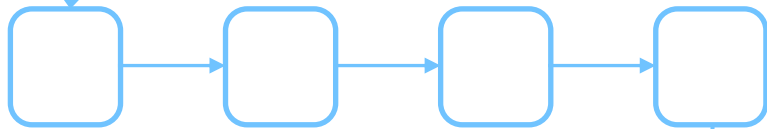
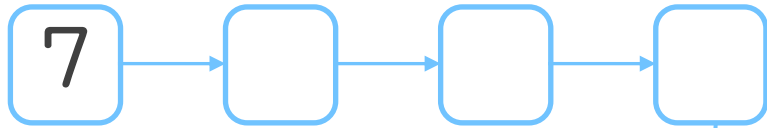
16

日にち： 月 日


名まえ _____



1. つぎの にあてはまる数を書こう。
(ぜんぶ せいかいで 50点)



63



2. つぎの計算をしましょう。
(1もん 10点ずつ)

① $7 \times 3 =$

② $7 \times 8 =$

③ $7 \times 4 =$

④ $7 \times 7 =$

⑤ $7 \times 2 =$



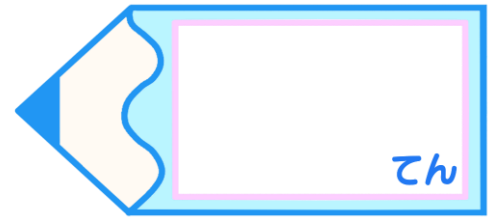
かけ算 9

7のだんの九九


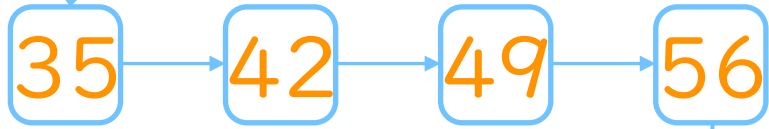
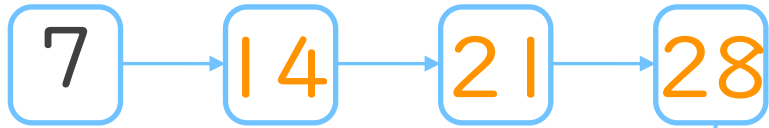


日にち： 月 日

名まえ _____



1. つぎの にあてはまる数を書こう。
(ぜんぶ せいかいで 50点)



2. つぎの計算をしましょう。
(1もん 10点ずつ)

① $7 \times 3 = 21$

② $7 \times 8 = 56$

③ $7 \times 4 = 28$

④ $7 \times 7 = 49$

⑤ $7 \times 2 = 14$