




時こくと時間 6

● 1日のできごとの時こく

16

めざせ100点!



名まえ _____

1 時計の時こくを、午前か午後をつけて書きましょう。(各35点)

① 夜ねた時こく



()

② 1時間目がはじまる時こく



()

2 つぎの時間は 何時間ですか。時計をみてこたえましょう。(30点)

① 公園にいた時間



ついた時こく




帰った時こく

こたえ

()






時こくと時間 6

● 1日のできごとの時こく

16

めざせ100点!



名まえ

1 時計の時こくを、午前か午後をつけて書きましょう。(各35点)

① 夜ねた時こく



(午後 8 時 4 5 分)

② 1時間目がはじまる時こく



(午前 9 時)

2 つぎの時間は 何時間ですか。時計をみてこたえましょう。(30点)

① 公園にいた時間



ついた時こく



帰った時こく

こたえ

(2 時間)

