



図を使って 考えよう 4

いろいろなたし算とひき算



日にち： 月 日

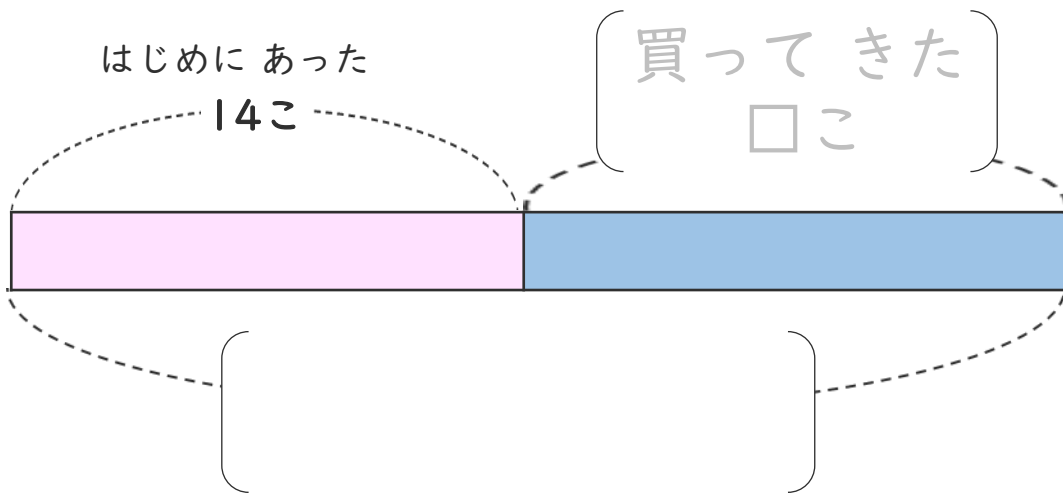
名まえ _____

・ みかんが 14こ あります。

何こか 買って きたので、ぜんぶで 33こ になりました。

(うすい字はなぞりましょう。)

① □ の ことばを つかって 図を かんせい させましょう。



買ってきた	ぜんぶで	33こ	□こ
-------	------	-----	----


② 買って きた みかんは 何こ ですか。

しきと 答えを 書きましょう。

しき ()

答え (こ)

<筆算スペース>





図を使って
考えよう 4

いろいろなたし算とひき算



日にち： 月 日

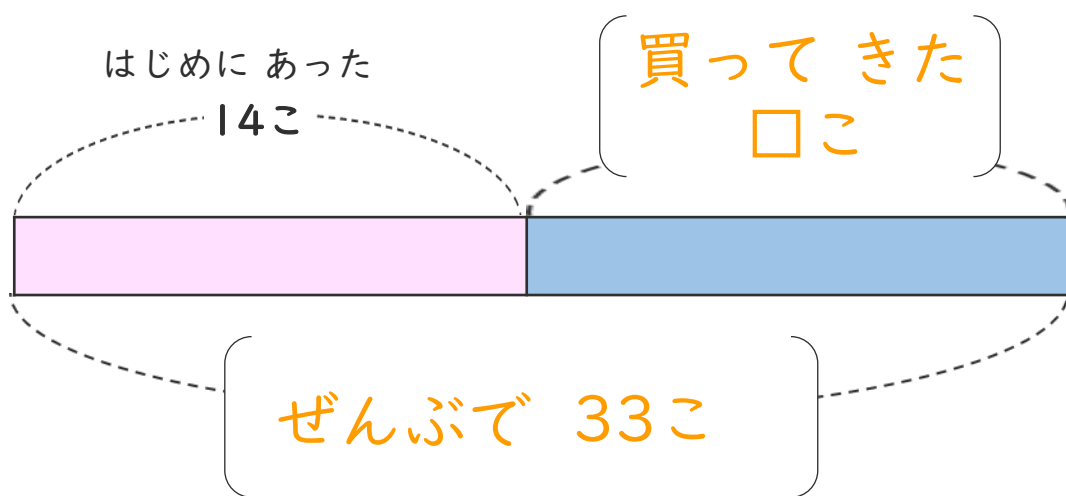
名まえ _____

・ みかんが 14こ あります。

何こか 買って きたので、ぜんぶで 33こ になりました。

(うすい字はなぞりましょう。)

① のことばをつかって 図を かんせい させましょう。



買って きた	ぜんぶで	33こ	□こ
--------	------	-----	----

② 買って きた みかんは 何こ ですか。

しきと 答えを 書きましょう。

しき $(33 - 14 = 19)$

答え $(19こ)$

<筆算スペース>

