



かけ算 1





● かけ算ってなに？



日にち： 月 日

名まえ _____

・ 下の ペンの 数 を もとめます。(うすい字はなぞりましょう)



① ペンは 1 ケースに 何本ずつ 入っていますか。

答え： 3本


② ケースは 何こ ありますか。

答え： こ

③ ぜんぶの ペンの 数 を もとめる かけ算の しきを 書きましょう。

しき： ^{かける} ×

1つ分の数 いくつ分



1つ分の数 と

いくつ分 が

わかると ぜんぶの

数をもとめる しきを

つくれるよ！

④ ペンは ぜんぶで 何本 ありますか。

答え： 12本









かけ算 I

● かけ算ってなに？



日にち： 月 日
名まえ _____

・ 下の ペンの 数 を もとめます。(うすい字はなぞりましょう)



① ペンは 1 ケースに 何本ずつ 入っていますか。

答え： 3 本


② ケースは 何こ ありますか。

答え： 4 こ

③ ぜんぶの ペンの 数 を もとめる かけ算の しきを 書きましょう。

しき： $\boxed{3} \times \boxed{4}$

1つ分の数 かける いくつ分



1つ分の数 と
いくつ分 が
わかると ぜんぶの
数をもとめる しきを
つくれるよ！

④ ペンは ぜんぶで 何本 ありますか。

答え： 12 本

