



かけ算 29


くふうして丸を数えよう



日にち： 月 日

名まえ _____

1 ● はぜんぶで何こありますか。 ● の数をもとめるかけ算のしきを2つ書いて答えましょう。(うすい字はなぞりましょう)




しき： $3 \times 4 =$

しき：

答え： _____

2 ● はぜんぶで何こありますか。 ● の数をもとめるかけ算のしきを2つ書いて答えましょう。



しき：

しき：

答え： _____



かけ算 29


くふうして丸を数えよう



日にち： 月 日

名まえ _____

1 ● はぜんぶで何こありますか。 ● の数をもとめるかけ算のしきを2つ書いて答えましょう。(うすい字はなぞりましょう)




$$\text{しき： } 3 \times 4 = 12$$

$$\text{しき： } 4 \times 3 = 12$$

答え： 12こ

2 ● はぜんぶで何こありますか。 ● の数をもとめるかけ算のしきを2つ書いて答えましょう。



$$\text{しき： } 4 \times 5 = 20$$

$$\text{しき： } 5 \times 4 = 20$$

答え： 20こ

