



かけ算 25

● かけ算で
つみきの数をもとめる

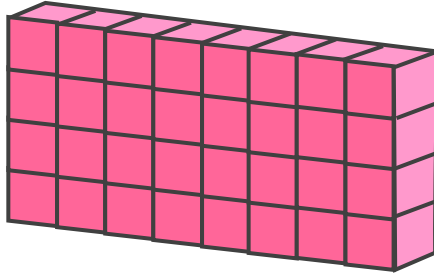


日にち： 月 日

名まえ _____

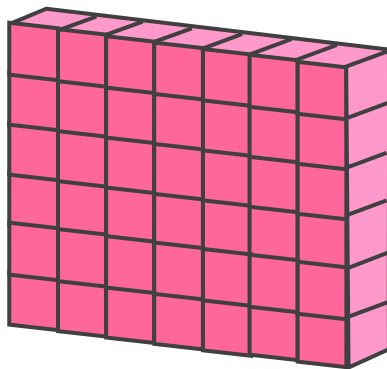
・ 下の つみきの 数をもとめる かけ算の しきを 2つ 書きましょう。

①



しき： () ()

②



しき： () ()



かけ算 25

● かけ算で
つみきの数をもとめる

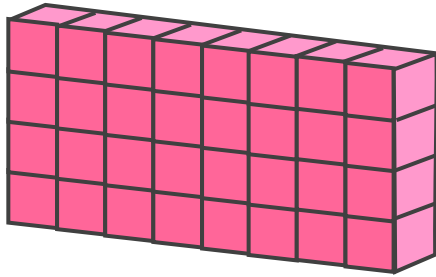


日にち： 月 日

名まえ _____

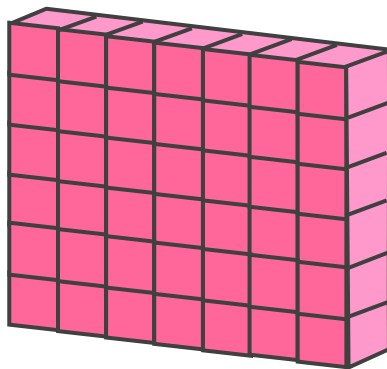
・ 下の つみきの 数をもとめる かけ算の しきを 2つ 書きましょう。

①



しき： (4×8) (8×4)

②



しき： (6×7) (7×6)