



計算のくふう⑨

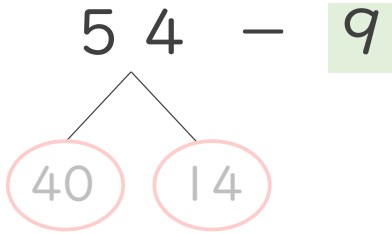
◎ ひき算のくふう
(何十といくつに分ける)



日にち： 月 日

名まえ _____

・ $54 - 9$ の計算をしましょう。(うすい字はなぞりましょう。)

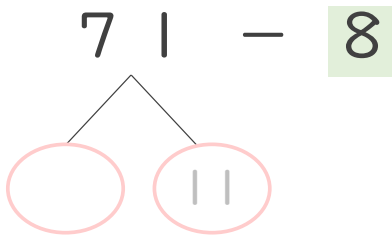


① 54 は 40 と 14

② $14 - 9 = 5$

③ 40 と 5 で 答え

・ $71 - 8$ の計算をしましょう。

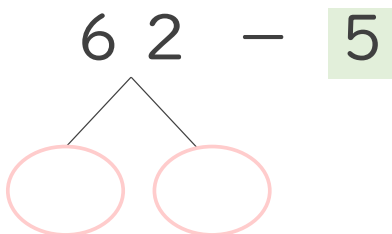


① 71 は 60 と 11

② $11 - 8 = 3$

③ 60 と で 答え

・ $62 - 5$ の計算をしましょう。



① 62 は と

② $12 - 5 = \input{type="text"}$

③ と で 答え



計算のくふう⑨

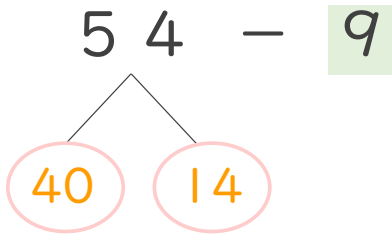
◎ ひき算のくふう
(何十といくつに分ける)



日にち： 月 日

名まえ _____

・ $54 - 9$ の計算をしましょう。(うすい字はなぞりましょう。)

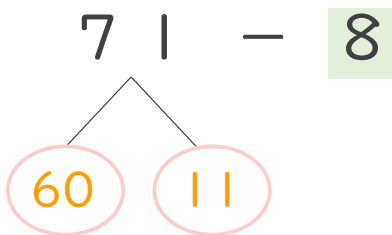


① 54 は 40 と 14

② $14 - 9 = 5$

③ 40 と 5 で 45
答え

・ $71 - 8$ の計算をしましょう。

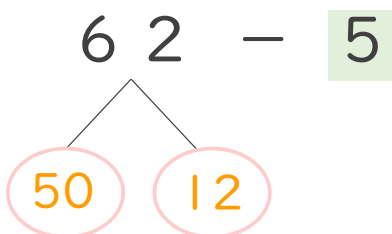


① 71 は 60 と 11

② $11 - 8 = 3$

③ 60 と 3 で 63
答え

・ $62 - 5$ の計算をしましょう。



① 62 は 50 と 12

② $12 - 5 = 7$

③ 50 と 7 で 57
答え