



分数3

● もとの大きさの○分の一をさがす

2

日にち： 月 日

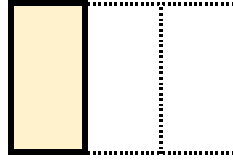
名まえ

1 もとの大きさの $\frac{1}{3}$ はどれですか。(うすい字はなぞりましょう。)




もとの大きさ


ア



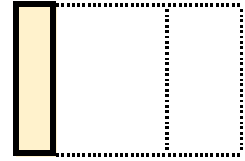
イ



ウ




エ



答え：

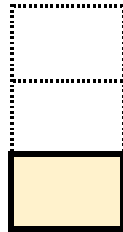
ア

2 もとの大きさの $\frac{1}{2}$ はどれですか。




もとの大きさ

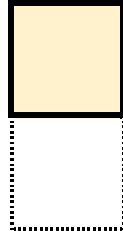
ア



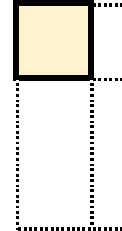
イ



ウ



エ



答え：





分数3

● もとの大きさの○分の一をさがす

2

日にち： 月 日

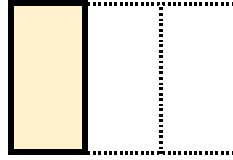
名まえ

1 もとの大きさの $\frac{1}{3}$ はどれですか。(うすい字はなぞりましょう。)




もとの大きさ


ア



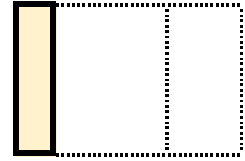
イ



ウ




エ



答え：

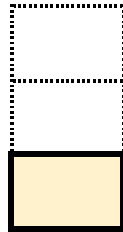
ア

2 もとの大きさの $\frac{1}{2}$ はどれですか。




もとの大きさ

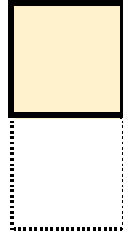
ア



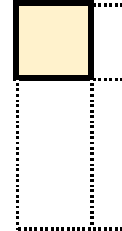
イ



ウ



エ



答え：

ウ

