



長さのたんい 7

● ものさしではかる (mm)

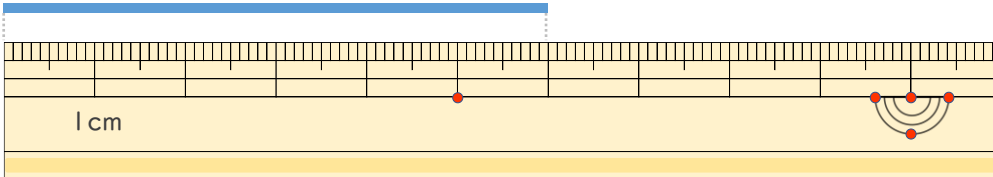


日にち： 月 日

名まえ _____

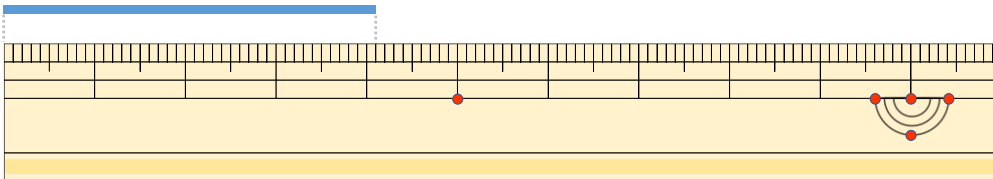
・ 線の ^{せん}長さ ^{なが}は どれ ^じだけ ですか。 (うすい字は なぞりましよう。)

①



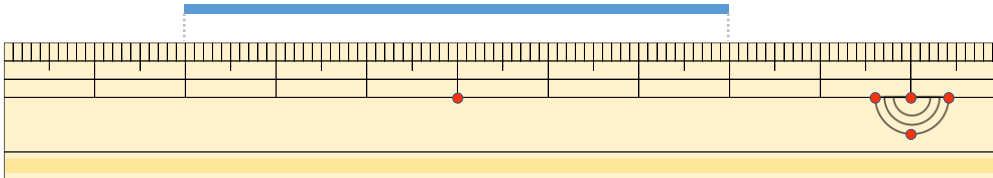
こた 答え (6 cm)

②



こた 答え ()

③



こた 答え ()





長さのたんい 7

● ものさしではかる (mm)

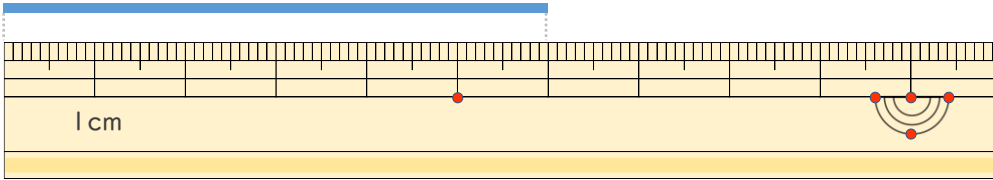


日にち： 月 日

名まえ _____

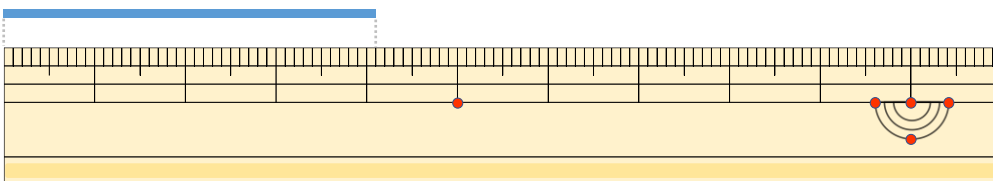
・線の ^{せん}長さ^{なが}は どれだけですか。(うすい字は ^じなぞり^しましょう。)

①



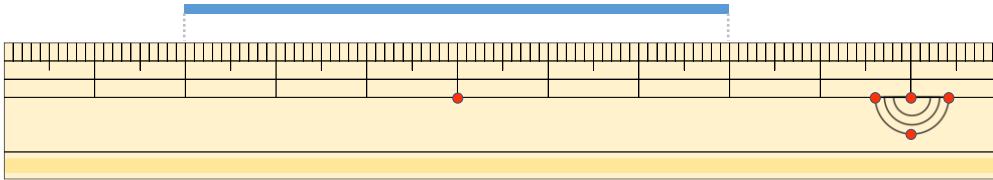
こた 答え (6 cm)

②



こた 答え (4 cm 1 mm)

③



こた 答え (6 cm)