



長さのたんい 3

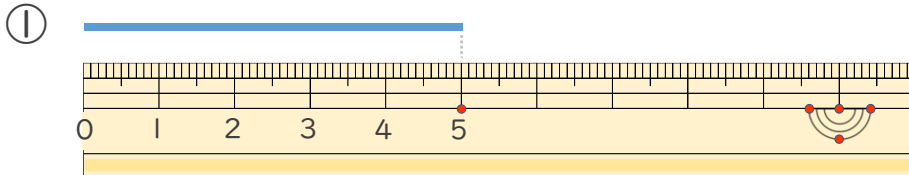
● ものさしの見かた (cm)



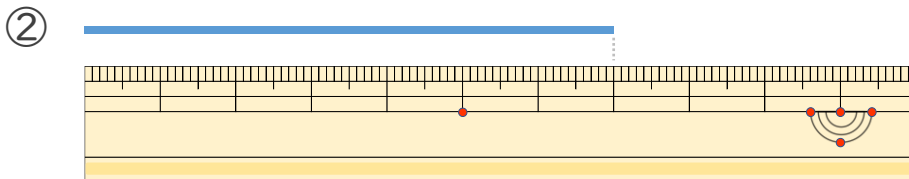
日にち： 月 日

名まえ _____

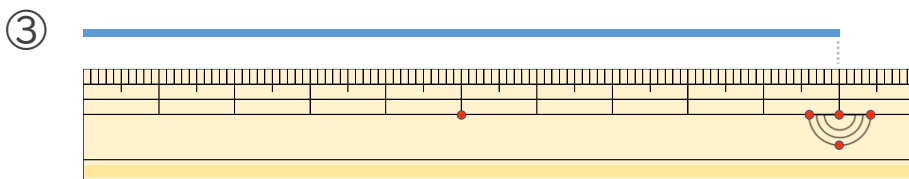
・線の長さは何cmでしょう。（うすい字はなぞりましょう。）



答え (5 cm)



答え (cm)



答え (cm)



長さのたんい 3

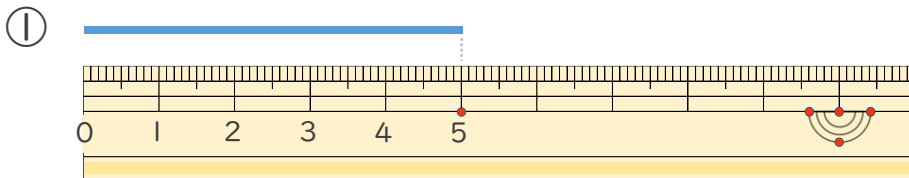
● 物のさしの見かた (cm)



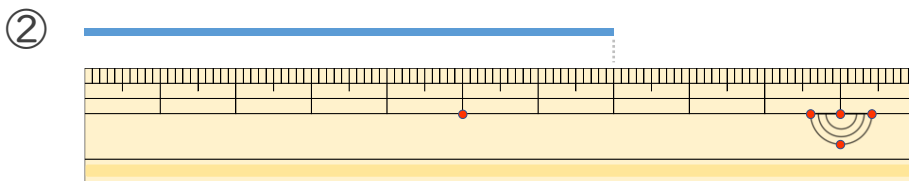
日にち： 月 日

名まえ _____

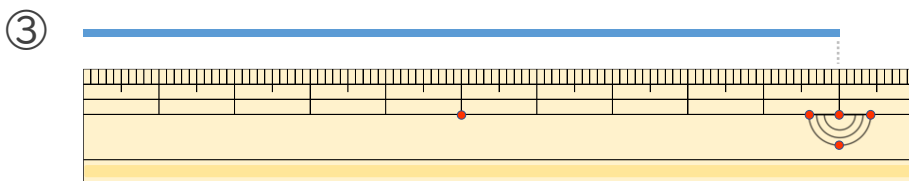
・線の長さは何cmでしょう。(うすい字はなぞりましょう。)



こた
答え (5 cm)



こた
答え (7 cm)



こた
答え (10 cm)

