



# 長さのたんい 2

● センチメートル



日にち：            月            日

名まえ \_\_\_\_\_

1 長さは 1 cm がいくつ分あるかであらわします。  
cm の書き方を れんしゅうしましょう。



1 cm 1 cm

↑ なぞろう！

2 線の長さは何 cm でしょう。（うすい字はなぞりましょう。）

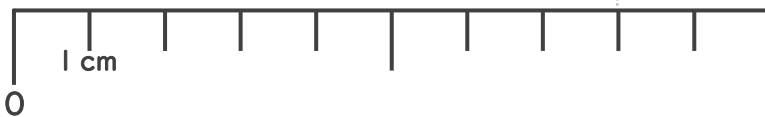
①



1 cm が 4 つ分あるね！

答え（            cm            ）

②



答え（                       ）





# 長さのたんい 2

● センチメートル



日にち：            月            日

名まえ \_\_\_\_\_

1 長さは 1 cm がいくつ分あるかであらわします。  
cm の書き方を れんしゅうしましょう。

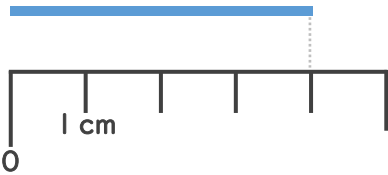


1 cm 1 cm 1 cm 1 cm 1 cm

↑ なぞろう！

2 線の長さは何 cm でしょう。（うすい字はなぞりましょう。）

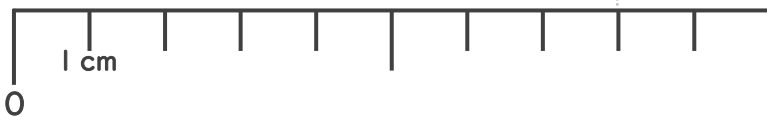
①



1 cm が 4 つ分あるね！

答え（ 4 cm ）

②



答え（ 8 cm ）

