



ひき算のひっ算①

● タイルでかんがえる



日にち： 月 日

名まえ _____

- ・ えみさんは 58円 もっています。23円の クッキーを 買います。のこりは いくらですか。(うすい字はなぞりましょう。)

もっている お金

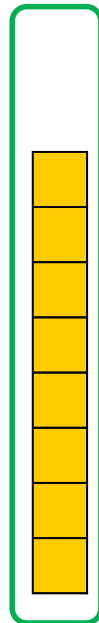
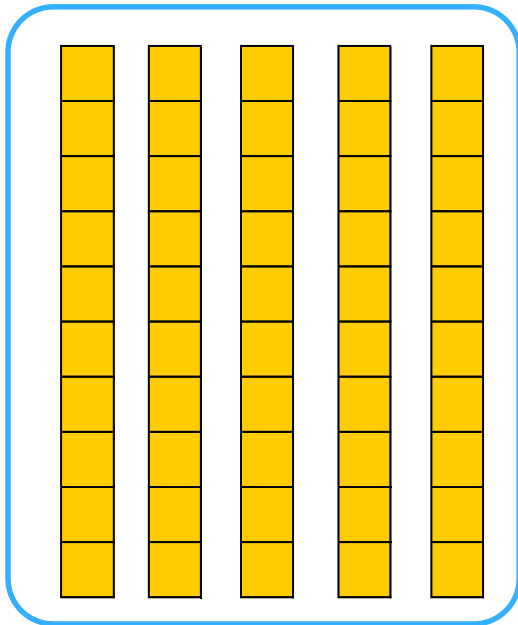
クッキー

十のくらい

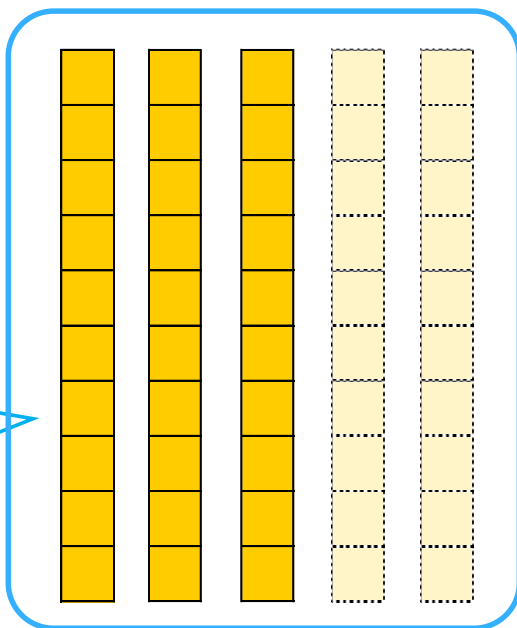

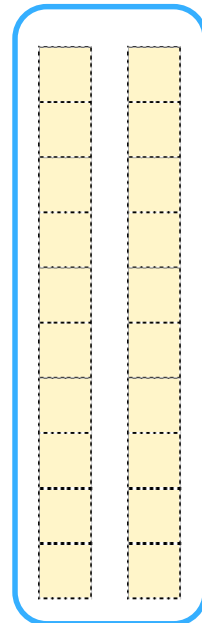
一のくらい

十のくらい

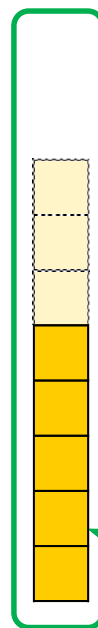
一のくらい



—



30



答え：

円



ひき算のひっ算①

● タイルでかんがえる



日にち： 月 日

名まえ _____

- ・ えみさんは 58円 もっています。23円の クッキーを 買います。のこりは いくらですか。(うすい字はなぞりましょう。)

もっている お金

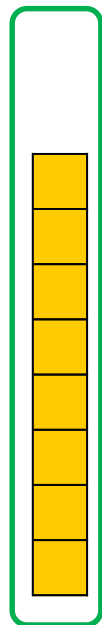
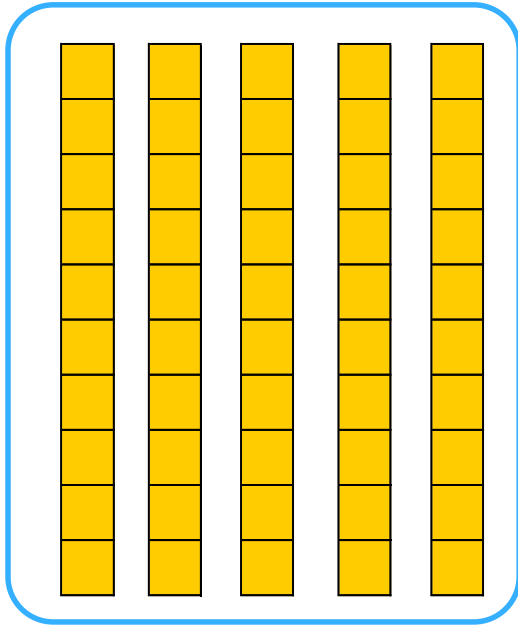
クッキー

十のくらい

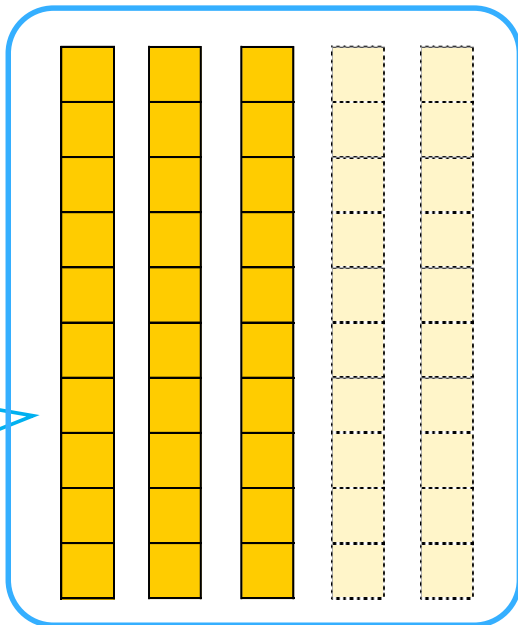

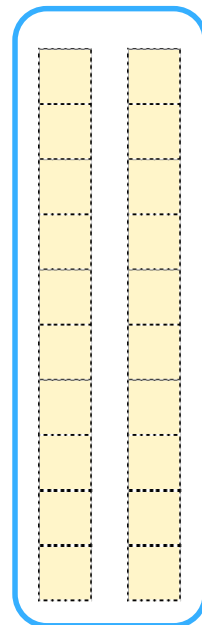
一のくらい

十のくらい

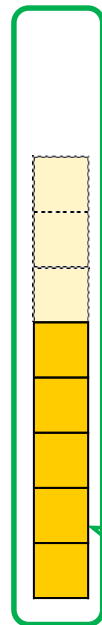
一のくらい



—



30



5

答え： 35円