



たし算のひっ算！

◎ タイルで数える
(ひっ算のじゅんぴ)



日にち： 月 日

名まえ _____

- ・ みかさんは 44円のドーナツと、15円のおめを買います。
だいはいはいくらになりますか。(うすい字はなぞりましよう。)

ドーナツ

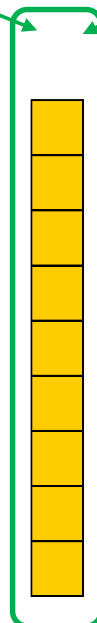
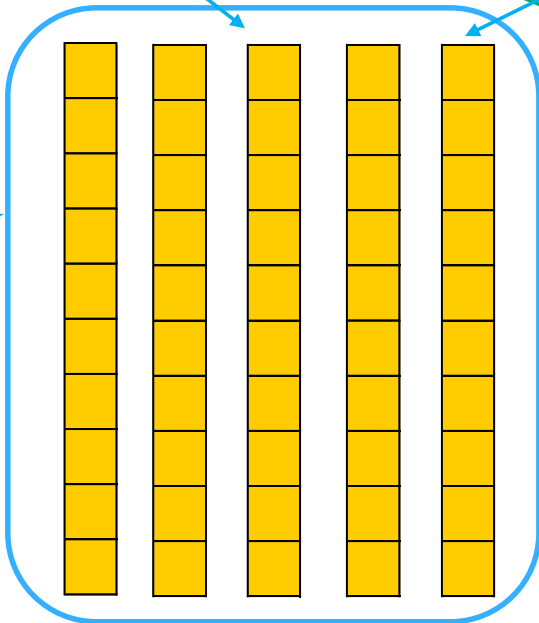
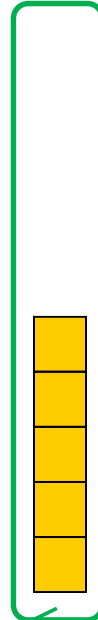
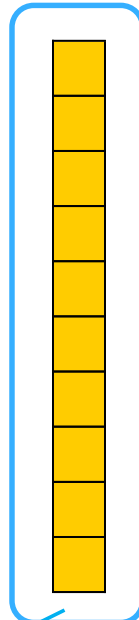

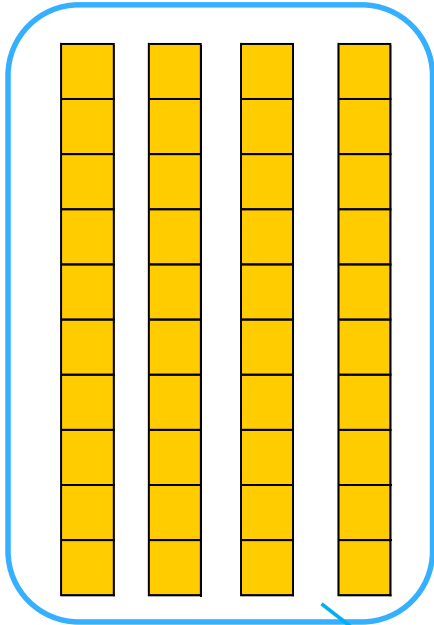
おめ

十のくらい

一のくらい

十のくらい

一のくらい



50

答え： _____



たし算のひっ算 I

◎ タイルで数える
(ひっ算のじゅんび)



日にち： 月 日

名まえ _____

- ・ みかさんは 44円のドーナツと、15円のおめを買います。
だいはいは いくらになりますか。(うすい字はなぞりましよう。)

ドーナツ

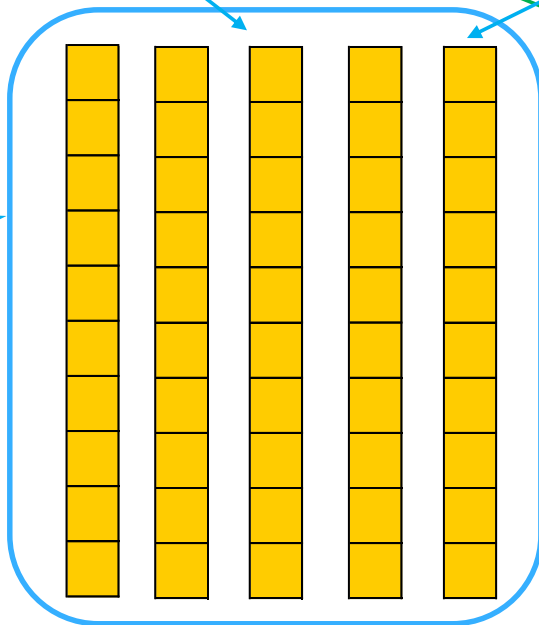
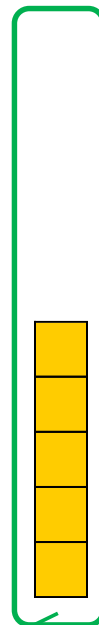
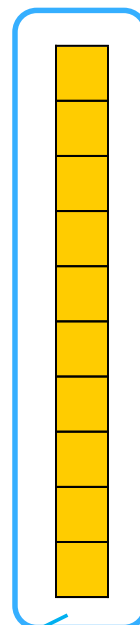

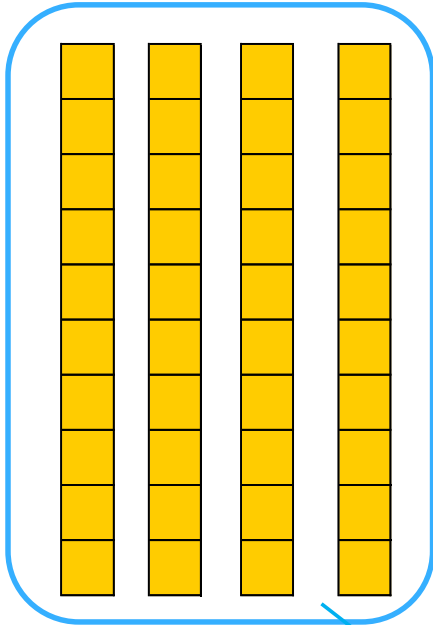
おめ

十のくらい

一のくらい

十のくらい

一のくらい



50

9

答え： 59円