



# たし算のひっ算 6

● タイルで数える  
(くり上がりのじゅんぴ)

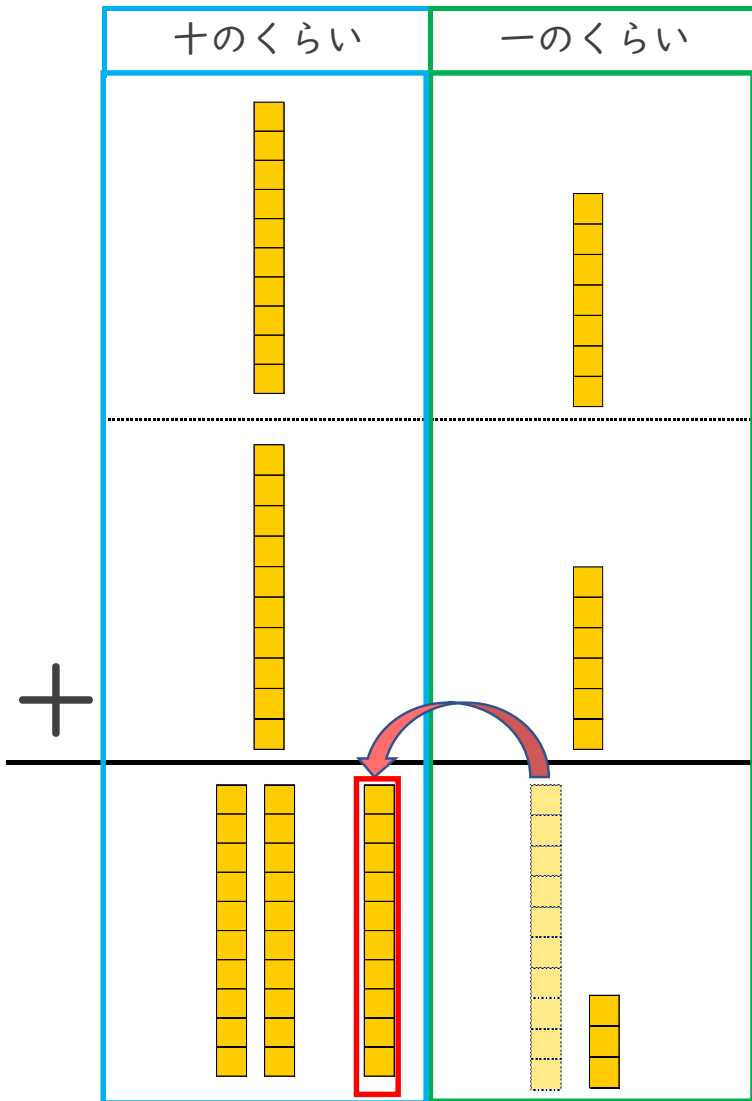


日にち： 月 日

名まえ \_\_\_\_\_

・ つぎの計算を ひっ算で しましょう。(うすい字はなぞりましょう。)

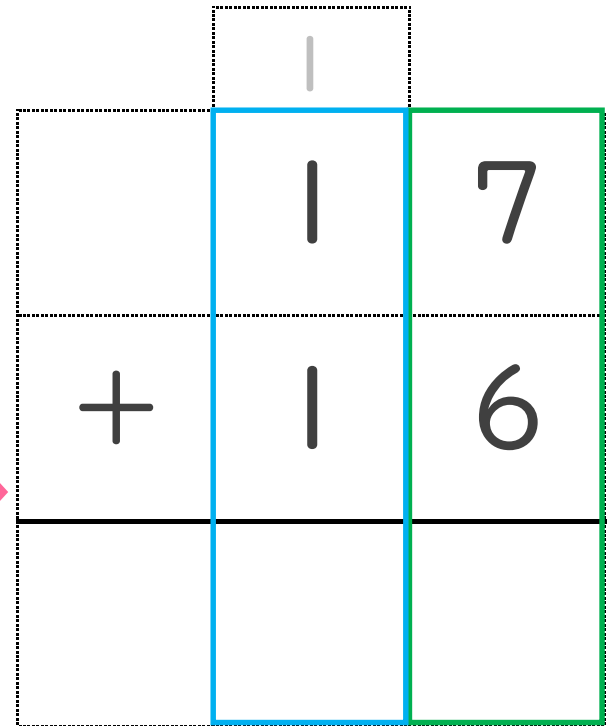
$17 + 16$



① 一のくらいから計算

$7 + 6 = ?$

☆ 十のくらいに 1 くり上げる。



② 十のくらいの計算

$1 + 1 + 1 = ?$

☆ くり上げた 1 も たそう！

一のくらいの計算が10をこえるときは  
十のくらいに1くり上げるよ！





# たし算のひっ算 6

● タイルで数える  
(くり上がりのじゅんぴ)

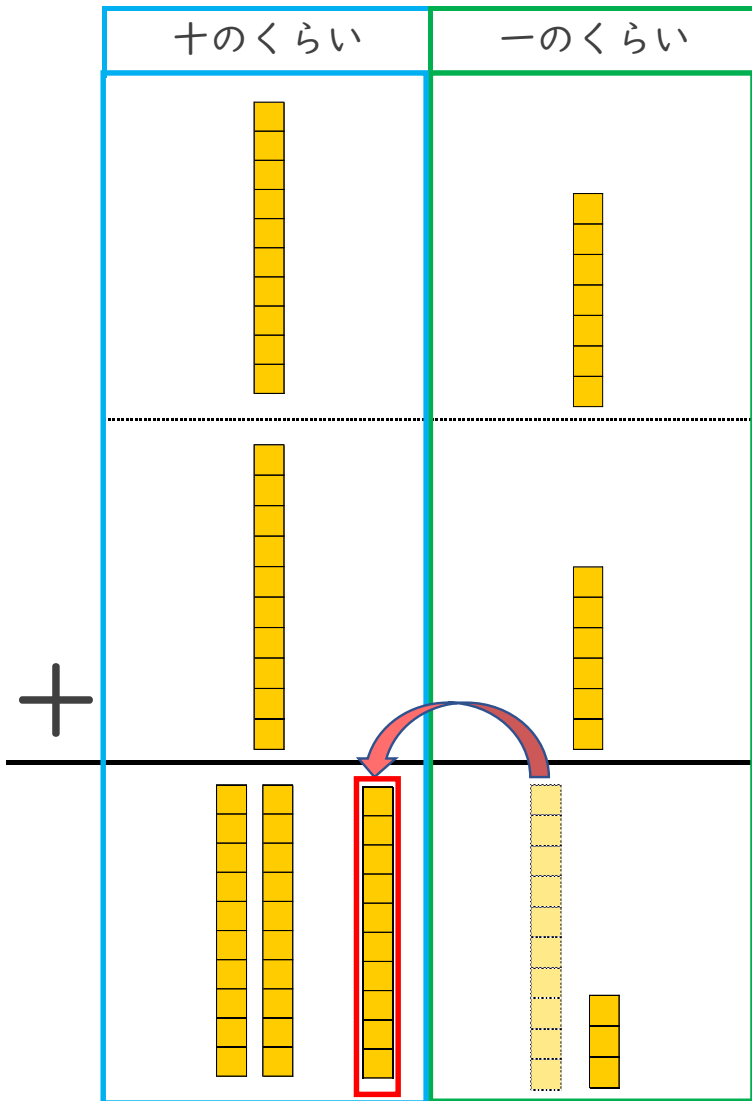


日にち： 月 日

名まえ \_\_\_\_\_

・ つぎの計算を ひっ算で しましょう。(うすい字はなぞりましょう。)

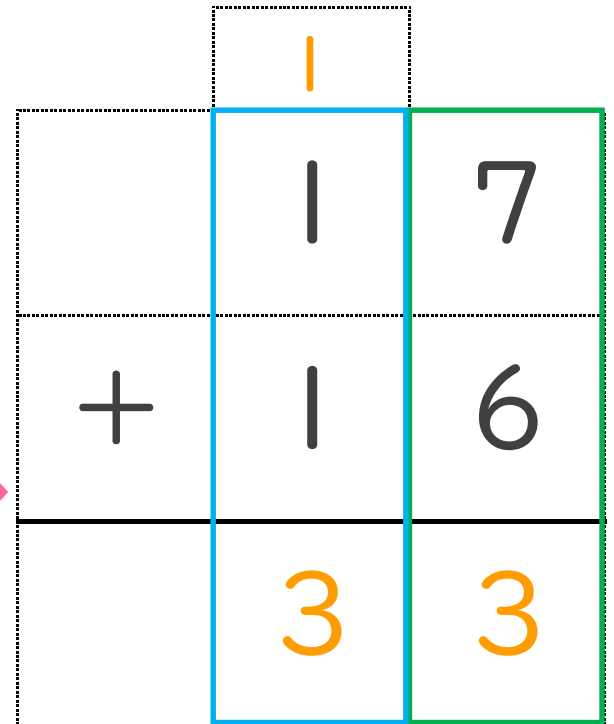
$17 + 16$



① 一のくらいから計算

$7 + 6 = ?$

☆ 十のくらいに 1 くり上げる。



② 十のくらいの計算

$1 + 1 + 1 = ?$

☆ くり上げた 1 も たそう！

一のくらいの計算が10をこえるときは  
十のくらいに1くり上げるよ！

