



# たし算のひっ算 I

◎ タイルで数える  
(ひっ算のじゅんび)



日にち： 月 日

名まえ \_\_\_\_\_

・ ゆうさんは 44円のチョコレートと、15円のラムネを買います。  
だいたいはいくらになりますか。(うすい字はなぞりましょう。)

チョコレート

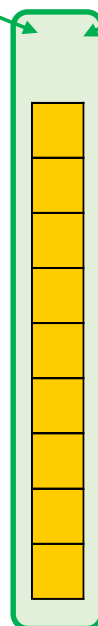
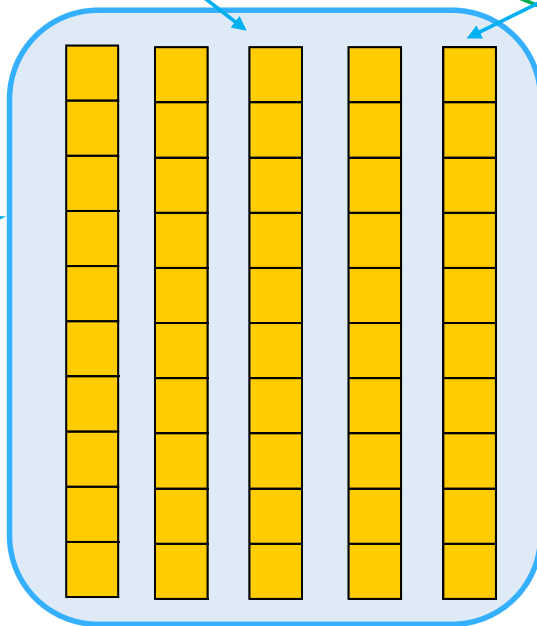
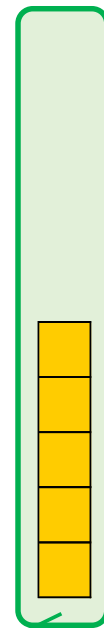


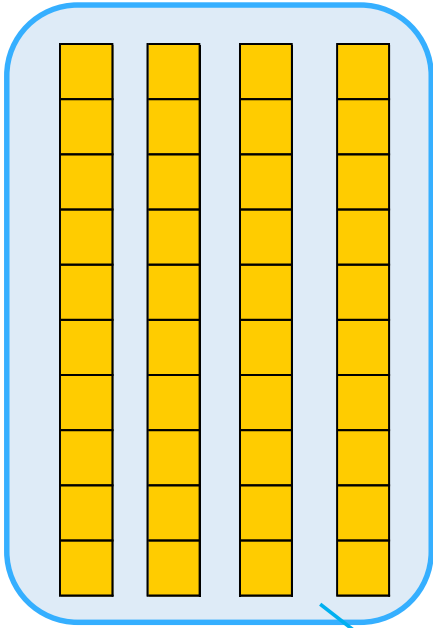
ラムネ

十のくらい

一のくらい

十のくらい

一のくらい



50

\_\_\_\_\_

答え： \_\_\_\_\_





# たし算のひっ算！

◎ タイルで数える  
(ひっ算のじゅんび)



日にち： 月 日

名まえ \_\_\_\_\_

・ ゆうさんは 44円のチョコレートと、15円のラムネを買います。  
だいたいはいくらになりますか。(うすい字はなぞりましょう。)

チョコレート

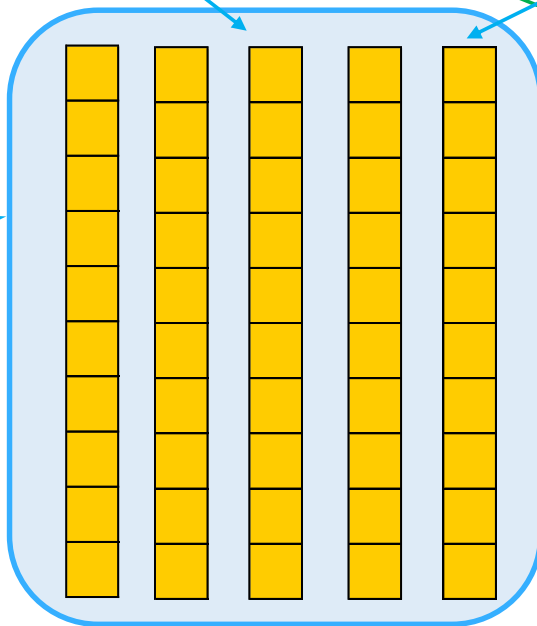
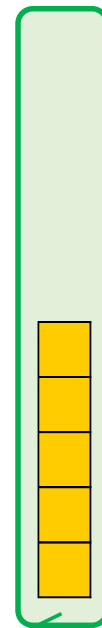


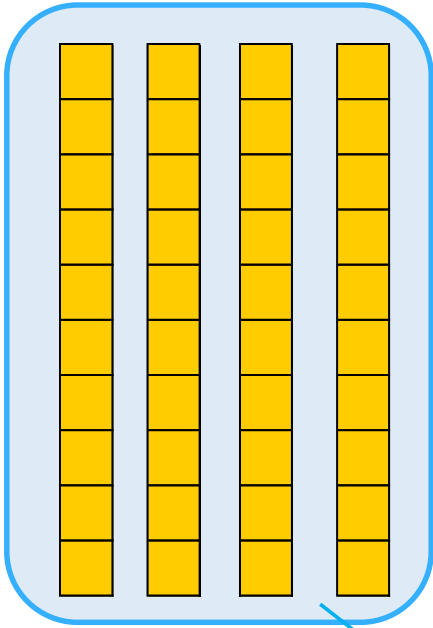
ラムネ

十のくらい

一のくらい

十のくらい

一のくらい



50

9

答え： 59円

