



かけ算 27

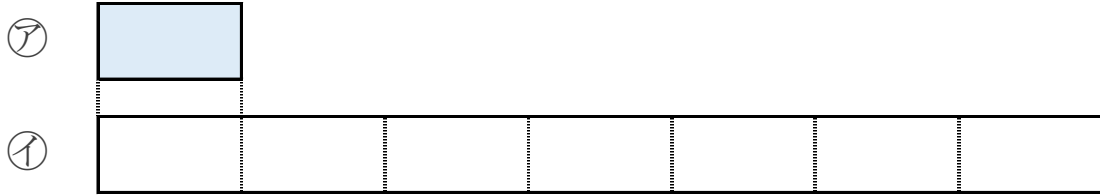
● テープの長さは何倍？



日にち： 月 日

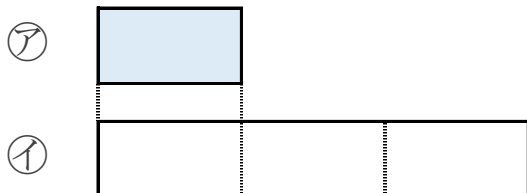
名まえ _____

1 ①のテープの長さは、②のテープの長さの何ばいといえはよいでしようか。



答え： _____

2 ①のテープの長さは、②のテープの長さの何ばいといえはよいでしようか。



答え： _____



かけ算 27

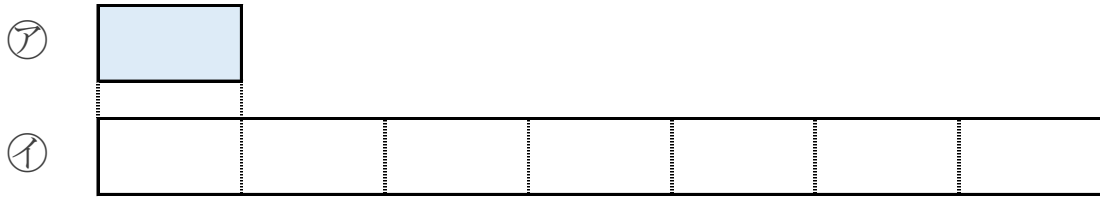
● テープの長さは何倍？

2

日にち： 月 日

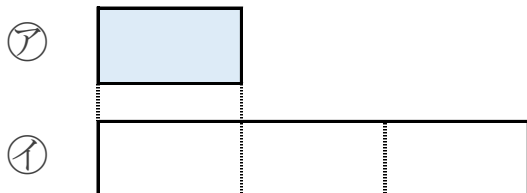
名まえ _____

1 ①のテープの長さは、②のテープの長さの何ばいといえはよいでしょうか。



答え： 7ばい

2 ①のテープの長さは、②のテープの長さの何ばいといえはよいでしょうか。



答え： 3ばい