



# 長さのたんい 5

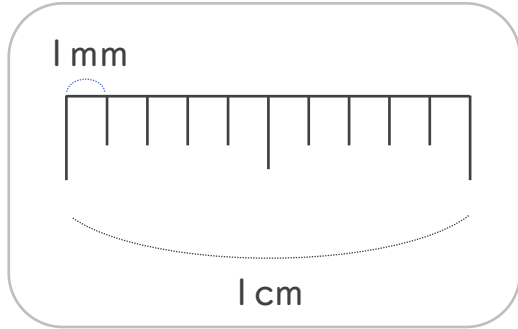
● ミリメートル



日にち：            月            日

名まえ \_\_\_\_\_

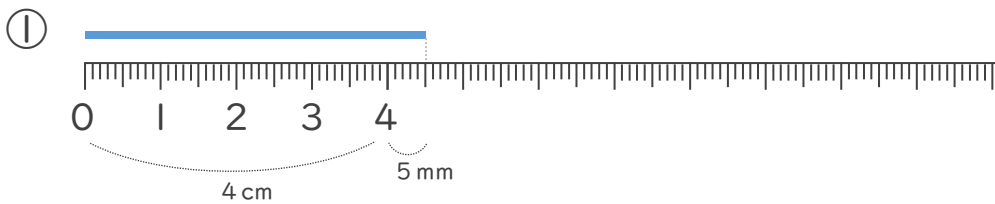
1 1cmを <sup>おな</sup> 同じ <sup>なが</sup> 長さに、10に <sup>わ</sup> 分けた <sup>ぶん</sup> 1つ分の <sup>なが</sup> 長さを 1mm(ミリメートル)と います。



mm (ミリメートル) の <sup>か</sup> 書き方 <sup>かた</sup> を れんしゅう しましょう。

1 mm 1 mm

2 <sup>せん</sup> 線の <sup>なが</sup> 長さは <sup>なん</sup> 何cm <sup>なん</sup> 何mm でしょう。(うすい <sup>じ</sup> 字はなぞり しよう。)



1 cmが 4こ分と、  
1 mmが 5こ分 あるよ

こた 答え (        cm    mm )



こた 答え (        cm    mm )





# 長さのたんい 5

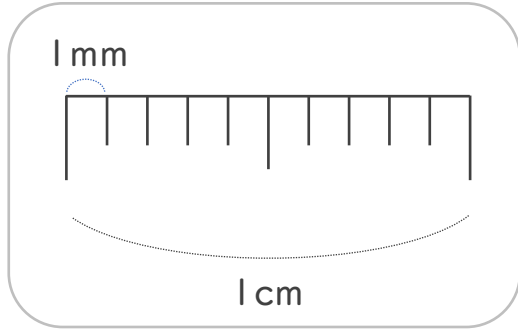
● ミリメートル



日にち：            月            日

名まえ \_\_\_\_\_

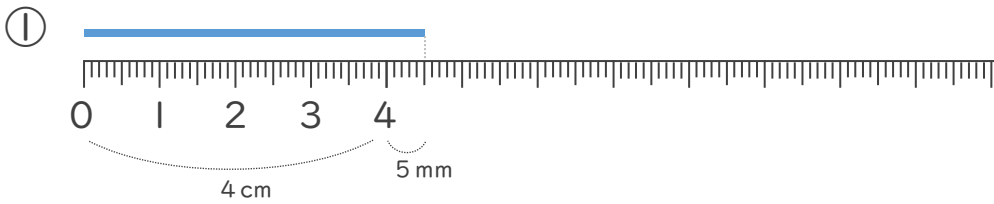
1 1cmを <sup>おな</sup> 同じ <sup>なが</sup> 長さに、10に <sup>わ</sup> 分けた <sup>ぶん</sup> 1つ分の <sup>なが</sup> 長さを 1mm(ミリメートル)と います。



mm (ミリメートル) の <sup>か</sup> 書き方 <sup>かた</sup> を れんしゅう しましょう。

1 mm 1 mm 1 mm 1 mm 1 mm

2 <sup>せん</sup> 線の <sup>なが</sup> 長さは <sup>なん</sup> 何cm <sup>なん</sup> 何mm でしょう。(うすい <sup>じ</sup> 字はなぞりましよう。)



1 cmが 4こ分と、  
1 mmが 5こ分 あるよ

こた 答え ( 4 cm 5 mm )



こた 答え ( 2 cm 8 mm )

