



# かけ算 26

● リボンの2ばいの長さ

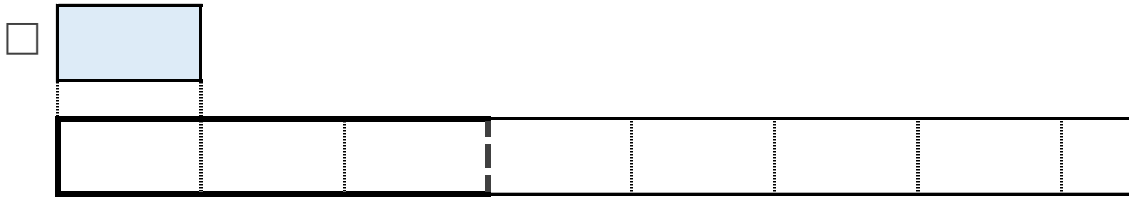


日にち：            月            日

名まえ \_\_\_\_\_

1 | ㊦のリボンの3ばいの長さを求めましょう。  
(うすい字はなぞりましょう)

① ㊦のリボンの3ばいの長さに色をぬりましょう。



② ㊦のリボンの長さは、5cmです。


①でぬったところの長さは何cmですか。

しき：  $5 \times 3 =$

答え： \_\_\_\_\_

2 □のリボンの5ばいの長さを求めましょう。

① □のリボンの5ばいの長さに色をぬりましょう。



② ①のリボンの長さは、7cmです。

①でぬったところの長さは何cmですか。

しき：

答え： \_\_\_\_\_





## かけ算 26

● リボンの2ばいの長さ

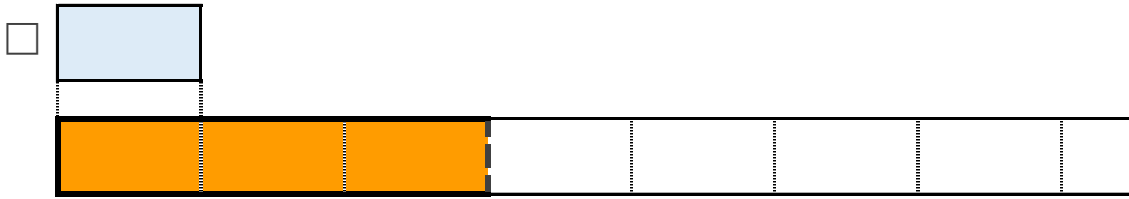


日にち：            月            日

名まえ \_\_\_\_\_

1 | ㊦のリボンの3ばいの長さを求めましょう。  
(うすい字はなぞりましょう)

① ㊦のリボンの3ばいの長さに色をぬりましょう。



② ㊦のリボンの長さは、5cmです。


①でぬったところの長さは何cmですか。

$$\text{しき： } 5 \times 3 = 15$$

答え： 15cm

2 □のリボンの5ばいの長さを求めましょう。

① □のリボンの5ばいの長さに色をぬりましょう。



② ㊦のリボンの長さは、7cmです。

①でぬったところの長さは何cmですか。

$$\text{しき： } 7 \times 5 = 35$$

答え： 35cm

