



# 4けたの数 14

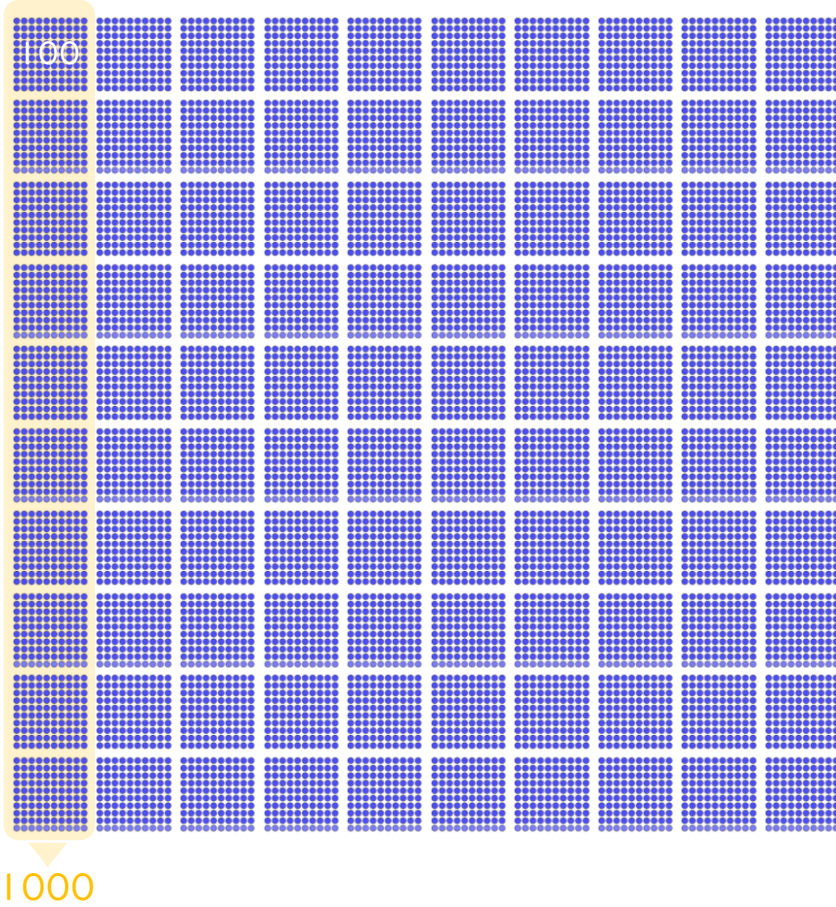


● 一万とは

日にち：          月          日

名まえ \_\_\_\_\_

・ 図を見てこたえましょう。(うすい字はなぞりましょう。)



千を 10こ あつめた 数を

一万 といひ、

と書きます。



10000は、

100を 100 こ

あつめた 数です。

① 1000の あつまりは何こ ありますか

( 10 こ )

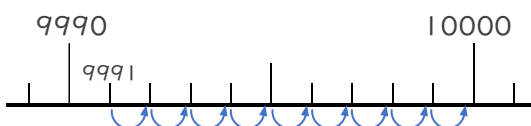
② ビーズ ● は何こ ありますか。

(                  こ )

③ 9000は、あと いくつで 10000になりますか。

(                  )

④ 9991は、あと いくつで 10000になりますか。



(                  )





# 4けたの数 14

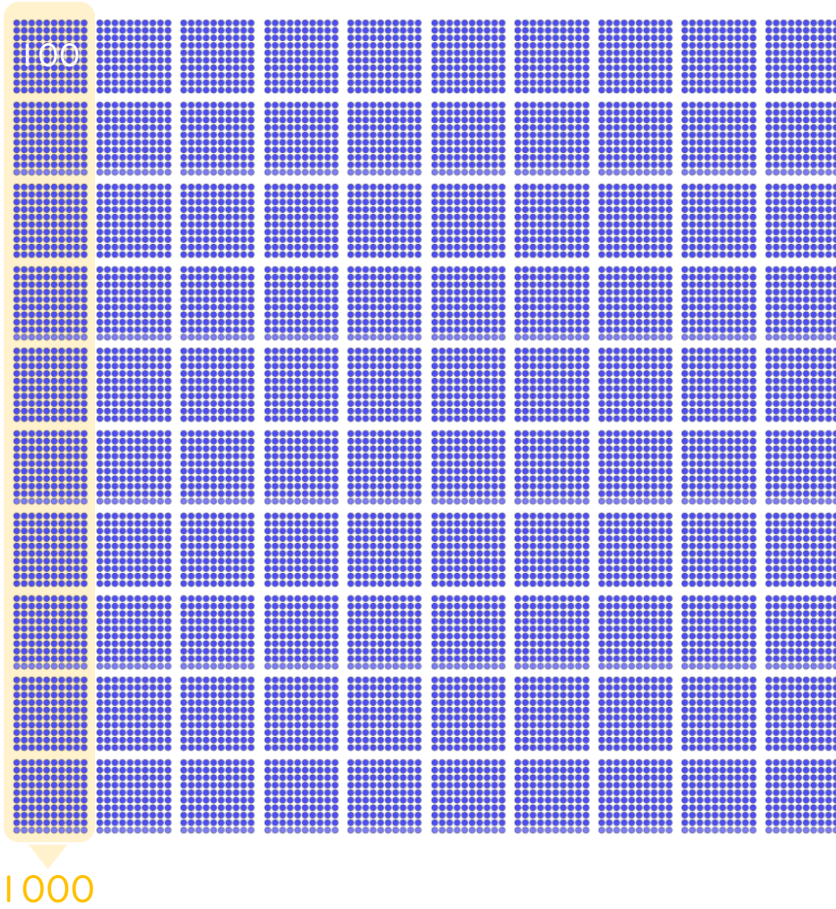
● 一万とは



日にち： 月 日

名まえ \_\_\_\_\_

・ 図を見てこたえましょう。(うすい字はなぞりましょう。)



千を10こあつめた数を

**一万** といい、

**10000** と書きます。



10000は、

100を **100** こ

あつめた数です。

① 1000のあつまりは何こありますか

( **10** こ )

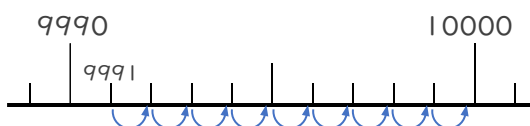
② <sup>ビーズ</sup> ●は何こありますか。

( **10000** こ )

③ 9000は、あといくつで10000になりますか。

( **1000** )

④ 9991は、あといくつで10000になりますか。



( **9** )

