



## 長方形と正方形 2

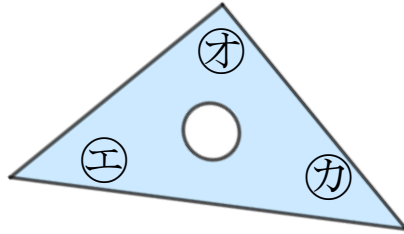
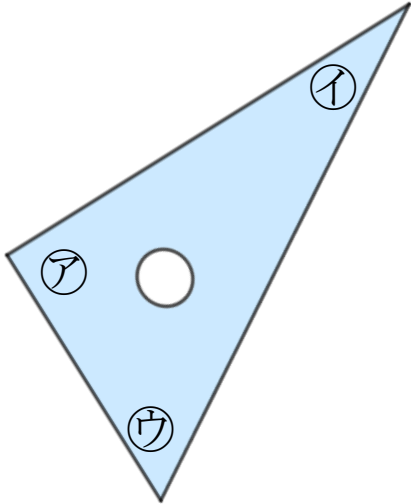
◎ 三角じょうぎの  
直角の角はどれ？




日にち：      月      日

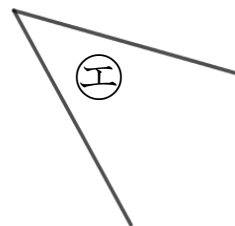
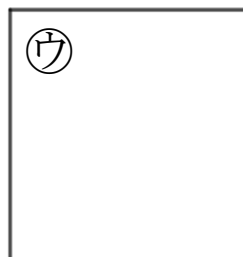
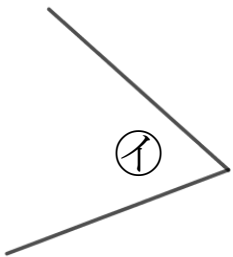
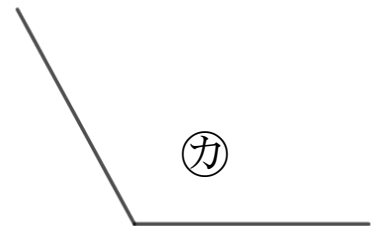
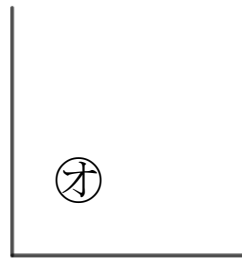
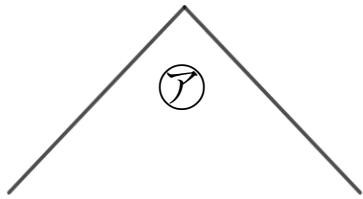
名まえ \_\_\_\_\_

- 1 三角じょうぎの直角のかどはどこですか。  
(うすい字はしっかりなぞりましょう。)



答え：       , \_\_\_\_\_

- 2 直角はどれですか。三角じょうぎをつかってぜんぶ見つけましょう。  
(うすい字はしっかりなぞりましょう。)



答え：       ,      , \_\_\_\_\_



## 長方形と正方形 2

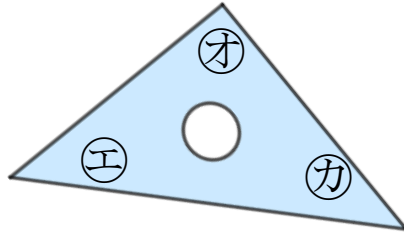
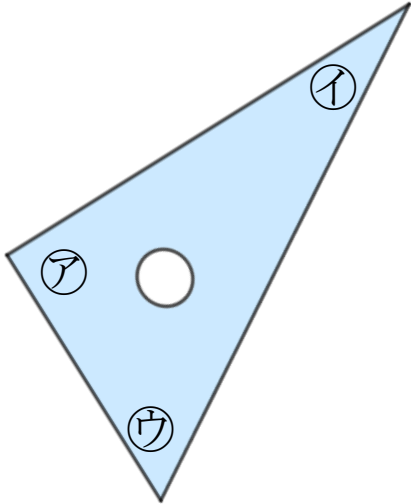
◎ 三角じょうぎの  
直角の角はどれ？



日にち： 月 日

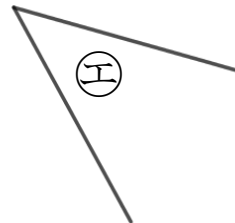
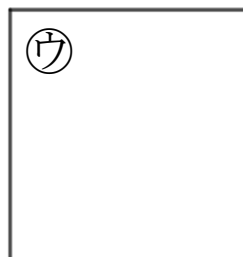
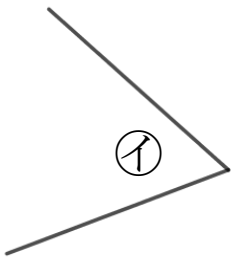
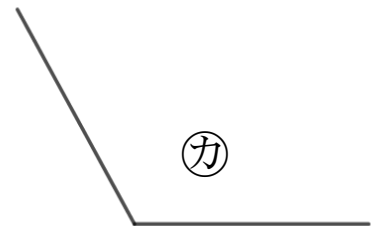
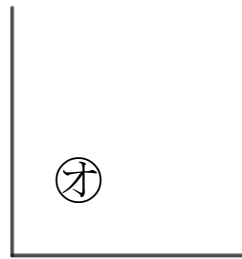
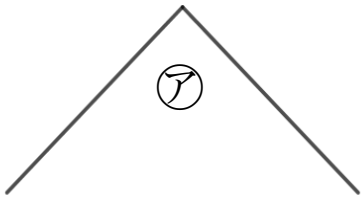
名まえ \_\_\_\_\_

- 1 三角じょうぎの直角のかどはどこですか。  
(うすい字はしっかりなぞりましょう。)



答え： ア , オ

- 2 直角はどれですか。三角じょうぎをつかってぜんぶ見つけましょう。  
(うすい字はしっかりなぞりましょう。)



答え： ア , ウ , オ

